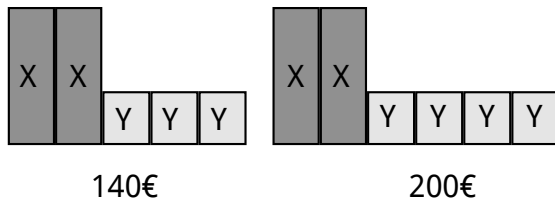


Prix d'une cuisine

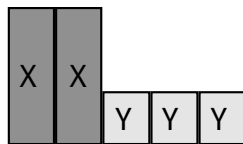
- ▶ Deux compositions de meubles sont exposées dans un magasin.



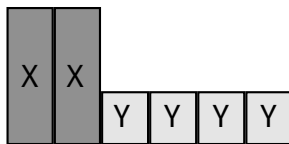
En combinant les deux compositions, retrouver le prix d'un petit meuble carré. En déduire le prix d'un grand meuble gris.

Prix d'une cuisine

- ▶ Deux compositions de meubles sont exposées dans un magasin.



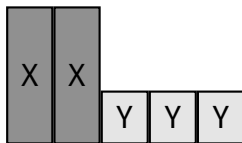
140€



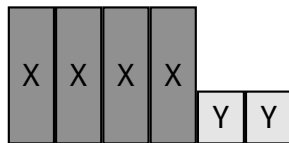
200€

En combinant les deux compositions, retrouver le prix d'un petit meuble carré. En déduire le prix d'un grand meuble gris.

- ▶ Mêmes questions pour les compositions suivantes



128



168