


Nom - Prénom

Devoir de mathématique

Calcul mental




Relier les choses égales

Une unité ● ● $\frac{1}{2}$ u ●

Une demi unité ● ● $\frac{1}{3}$ u ●

Un tier d'unité ● ● 1 u ●


Coder la figure puis la reproduire



Nom - Prénom

Devoir de mathématique

Calcul mental



Relier les choses égales

Une unité ● ● $\frac{1}{2}$ u ●

Une demi unité ● ● $\frac{1}{3}$ u ●

Un tier d'unité ● ● 1 u ●

Coder la figure puis la reproduire

