


Exercice 3


Un petit garçon avait mal au ventre. On l'a ouvert et voila ce que l'on a trouvé.



1. Combien de bonbons a-t-on trouvé?
2. Combien de cuisses de poulet a-t-on trouvé?
3. Combien d'aliment y avait-il en tout?
4. Completer le tableau


Objet	Pomme	Raisin	Bonbon	Gateau	Poulet
Nombre					

5. Qu'a-t-il mangé le plus?
6. Completer le graphique



Exercice 3

Un petit garçon avait mal au ventre. On l'a ouvert et voila ce que l'on a trouvé.



1. Combien de bonbons a-t-on trouvé?
2. Combien de cuisses de poulet a-t-on trouvé?
3. Combien d'aliment y avait-il en tout?
4. Completer le tableau

Objet	Pomme	Raisin	Bonbon	Gateau	Poulet
Nombre					

5. Qu'a-t-il mangé le plus?
6. Completer le graphique

