

Évaluation 3

Cinquième – Novembre 2016

Sujet 1

Nom, Prénom :

Le barème est donné à titre indicatif, il pourra être modifié.

Exercice 1 _____ 4 points

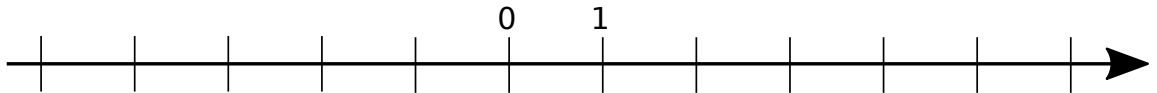
1. Entoure les opérations impossibles et fait le calcul.

- a. $30 - 50 = \dots$ b. $43 - 15 = \dots$ c. $65 - 31 = \dots$ d. $34 - 46 = \dots$

2. Range les nombres suivant par ordre croissant

- a. 3 b. -2 c. 2,5 d. -4 e. 2


.....



Exercice 2 _____ 3 points

Retrouver le nom de la symétrie et la décrire en une phrase.

1. Première transformation




Symétrie

Description :

.....

.....

2. Deuxième transformation



Symétrie

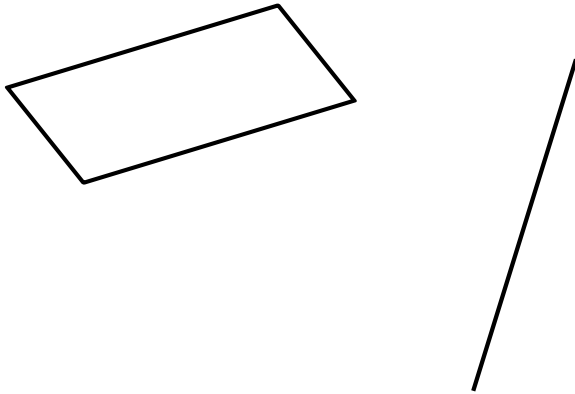
Description :

.....

.....

Exercice 3**2 points**

Construire la symétrie axiale de la figure suivante

**Exercice 4****1 point**

Pour décorer la salle à manger, un couple achète 8 rouleaux de papier à 7 € pièce et un pot de colle à 25 €.

Combien dépensent-ils ?

.....

.....

.....

.....

.....

.....