
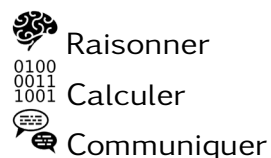
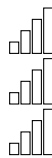
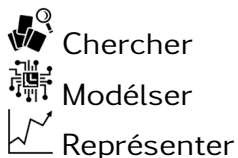


Nom:

Prénom:



DS 7

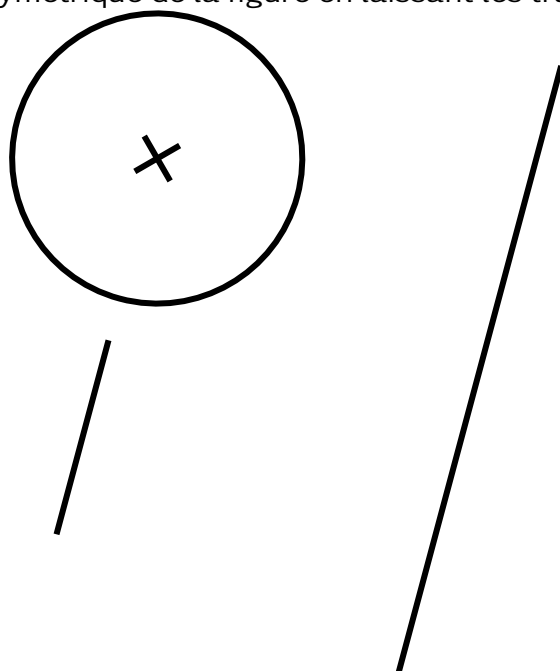
Sixième – 14 février 2018

Sujet 1

Exercice 1

Symétrie

Tracer le symétrique de la figure en laissant les traits de construction.



Exercice 2

Problèmes

1. L'organisation d'un voyage nous a coûté 45€. Nous sommes 4 et nous voulons nous partager le prix équitablement. Combien chacun va-t-il payer?

.....

2. Quatre agriculteurs ont fait une belle de récolte de bananes. Ils se partagent tout équitablement et il ne reste rien. Combien de bananes ont-ils récolté?

.....

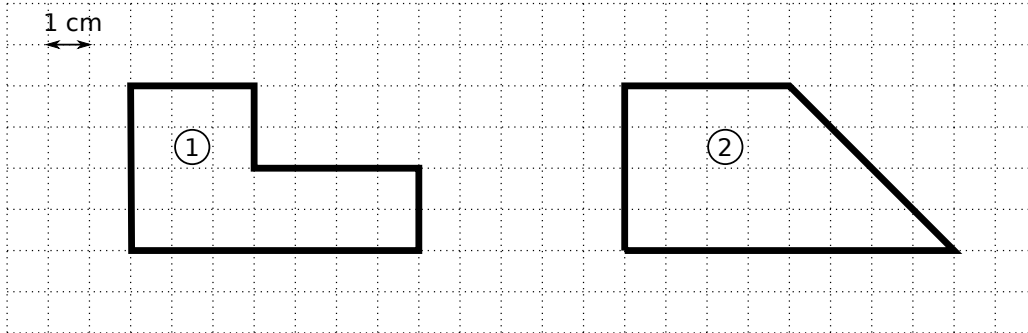
Exercice 3

Aire et périmètre

1. Quel est le nom de l'unité qui mesure l'aire? La dessiner sur la figure.

.....

2. On s'intéresse aux deux figures suivantes



(a) Mesurer le périmètre de la figure 1.

.....

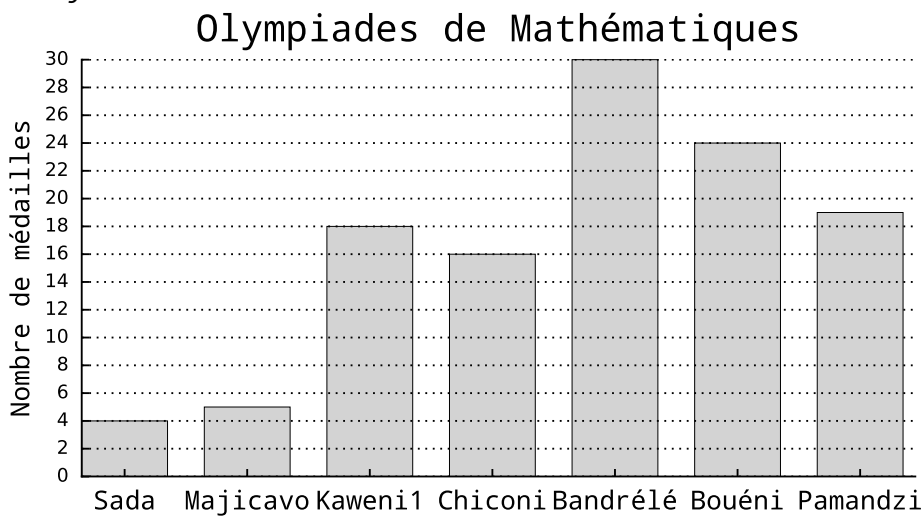
(b) Laquelle de ces 2 figures a la plus grande aire.

.....

Exercice 4

Olympiades de maths

Voici le nombre de médailles gagnées au olympiades de mathématiques par différents collèges de Mayotte.



1. Colorie la barre qui parle de Kaweni.

.....

2. Combien de médaille le collège de Chiconi a-t-il gagné?

.....

3. Quel collège a gagné le plus de médailles?

.....