














306 –

Compétences évaluées























-  Chercher
-  Calculer
-  Représenter
-  Raisonner
-  Communiquer

fullname	level					
	competence	Cher	Rep	Rai	Cal	Com
	AHAMED Mikidadi					
ANSSURDINE Zaidou						
BACAR MOUSTADRANE Rakchat						
BOINA Chadia						
CHANFI Fayçoil						
CHARIF Djaël						
COMBO Doulka-rynaini						
IBRAHIM, Izaki						
MAGNELE Chamsidine						
MIRADJI Issoufi						
NIDHOIMI El-fahar						
OUSSENI Fayadhui						
SAID OMAR Nadjoi						
SAID Rachida						
SAÏD Dalila						
TSIMPOU Zoubert						







AHAMED Mikidadi

-  Chercher _____  Très bonne maîtrise
-  Représenter _____  Maîtrise insuffisante
-  Raisonner _____  Maîtrise insuffisante
-  Calculer _____  Maîtrise insuffisante
-  Communiquer _____  Maîtrise satisfaisante























Exercice 1 - Facture	
 1 et 2 Lecture du tableau	
 3 Multiplication	
 3 Division	
 3 Sommes	
 4 et 5 Formules tableur	
Exercice 2 - Saut de haies	
 1 Placer les distances	
 2 Distance entre les haies	
 3 Distance entre 2 haies	
Exercice 3 - Etagère	
 1.a Pythagore	
 1.b Tour de la tablette	
 2.a Aire de la tablette	
 2.b Aire total à vernir	
 2.c 3/4 du pot	

Exercice 4 - IMC	
 1 Calcul de l'IMC	
 2 Placer sur le graphique	
 3 Position d'Hakim	
Exercice 5 - Jours de pluie	
 1 Calculer la donnée manquante	
 2 Compléter le graphique	
 3 Calcul de la moyenne	
 4 Mois le plus pluvieux	
 4 Calcul du pourcentage	
Exercice 6 - Location de vélos	
 Calcul d'une probabilité	
 Changement de situation	
Exercice Présentation	
 Présentation	








ANSSURDINE Zaidou

-  Chercher _____  Maîtrise insuffisante
-  Représenter _____  Maîtrise insuffisante
-  Raisonner _____  Maîtrise insuffisante
-  Calculer _____  Maîtrise insuffisante
-  Communiquer _____  Maîtrise fragile























Exercice 1 - Facture	
 1 et 2 Lecture du tableau	
 3 Multiplication	
 3 Division	
 3 Sommes	
 4 et 5 Formules tableur	
Exercice 2 - Saut de haies	
 1 Placer les distances	
 2 Distance entre les haies	
 3 Distance entre 2 haies	
Exercice 3 - Etagère	
 1.a Pythagore	
 1.b Tour de la tablette	
 2.a Aire de la tablette	
 2.b Aire total à vernir	
 2.c 3/4 du pot	

Exercice 4 - IMC	
 1 Calcul de l'IMC	
 2 Placer sur le graphique	
 3 Position d'Hakim	
Exercice 5 - Jours de pluie	
 1 Calculer la donnée manquante	
 2 Compléter le graphique	
 3 Calcul de la moyenne	
 4 Mois le plus pluvieux	
 4 Calcul du pourcentage	
Exercice 6 - Location de vélos	
 Calcul d'une probabilité	
 Changement de situation	
Exercice Présentation	
 Présentation	

BACAR MOUSTADRANE Rakchat











-  Chercher _____  Maîtrise insuffisante
-  Représenter _____  Maîtrise insuffisante
-  Raisonner _____  Maîtrise insuffisante
-  Calculer _____  Maîtrise insuffisante
-  Communiquer _____  Maîtrise satisfaisante

Exercice 1 - Facture	
 1 et 2 Lecture du tableau	
 3 Multiplication	
 3 Division	
 3 Sommes	
 4 et 5 Formules tableur	
Exercice 2 - Saut de haies	
 1 Placer les distances	
 2 Distance entre les haies	
 3 Distance entre 2 haies	
Exercice 3 - Etagère	
 1.a Pythagore	
 1.b Tour de la tablette	
 2.a Aire de la tablette	
 2.b Aire total à vernir	
 2.c 3/4 du pot	























Exercice 4 - IMC	
 1 Calcul de l'IMC	
 2 Placer sur le graphique	
 3 Position d'Hakim	
Exercice 5 - Jours de pluie	
 1 Calculer la donnée manquante	
 2 Compléter le graphique	
 3 Calcul de la moyenne	
 4 Mois le plus pluvieux	
 4 Calcul du pourcentage	
Exercice 6 - Location de vélos	
 Calcul d'une probabilité	
 Changement de situation	
Exercice Présentation	
 Présentation	

306 –






BOINA Chadia

-  Chercher _____  Maîtrise insuffisante
-  Représenter _____  Maîtrise insuffisante
-  Raisonner _____  Maîtrise insuffisante
-  Calculer _____  Maîtrise fragile
-  Communiquer _____  Très bonne maîtrise























Exercice 1 - Facture	
 1 et 2 Lecture du tableau	
 3 Multiplication	
 3 Division	
 3 Sommes	
 4 et 5 Formules tableur	
Exercice 2 - Saut de haies	
 1 Placer les distances	
 2 Distance entre les haies	
 3 Distance entre 2 haies	
Exercice 3 - Etagère	
 1.a Pythagore	
 1.b Tour de la tablette	
 2.a Aire de la tablette	
 2.b Aire total à vernir	
 2.c 3/4 du pot	

Exercice 4 - IMC	
 1 Calcul de l'IMC	
 2 Placer sur le graphique	
 3 Position d'Hakim	
Exercice 5 - Jours de pluie	
 1 Calculer la donnée manquante	
 2 Compléter le graphique	
 3 Calcul de la moyenne	
 4 Mois le plus pluvieux	
 4 Calcul du pourcentage	
Exercice 6 - Location de vélos	
 Calcul d'une probabilité	
 Changement de situation	
Exercice Présentation	
 Présentation	











CHANFI Fayçoil

-  Chercher _____  Maîtrise insuffisante
-  Représenter _____  Maîtrise insuffisante
-  Raisonner _____  Maîtrise insuffisante
-  Calculer _____  Maîtrise insuffisante
-  Communiquer _____  Maîtrise fragile























Exercice 1 - Facture	
 1 et 2 Lecture du tableau	
 3 Multiplication	
 3 Division	
 3 Sommes	
 4 et 5 Formules tableur	
Exercice 2 - Saut de haies	
 1 Placer les distances	
 2 Distance entre les haies	
 3 Distance entre 2 haies	
Exercice 3 - Etagère	
 1.a Pythagore	
 1.b Tour de la tablette	
 2.a Aire de la tablette	
 2.b Aire total à vernir	
 2.c 3/4 du pot	

Exercice 4 - IMC	
 1 Calcul de l'IMC	
 2 Placer sur le graphique	
 3 Position d'Hakim	
Exercice 5 - Jours de pluie	
 1 Calculer la donnée manquante	
 2 Compléter le graphique	
 3 Calcul de la moyenne	
 4 Mois le plus pluvieux	
 4 Calcul du pourcentage	
Exercice 6 - Location de vélos	
 Calcul d'une probabilité	
 Changement de situation	
Exercice Présentation	
 Présentation	




CHARIF Djaël

-  Chercher _____  Très bonne maîtrise
-  Représenter _____  Maîtrise insuffisante
-  Raisonner _____  Maîtrise insuffisante
-  Calculer _____  Maîtrise fragile
-  Communiquer _____  Très bonne maîtrise























Exercice 1 - Facture	
 1 et 2 Lecture du tableau	
 3 Multiplication	
 3 Division	
 3 Sommes	
 4 et 5 Formules tableur	
Exercice 2 - Saut de haies	
 1 Placer les distances	
 2 Distance entre les haies	
 3 Distance entre 2 haies	
Exercice 3 - Etagère	
 1.a Pythagore	
 1.b Tour de la tablette	
 2.a Aire de la tablette	
 2.b Aire total à vernir	
 2.c 3/4 du pot	

Exercice 4 - IMC	
 1 Calcul de l'IMC	
 2 Placer sur le graphique	
 3 Position d'Hakim	
Exercice 5 - Jours de pluie	
 1 Calculer la donnée manquante	
 2 Compléter le graphique	
 3 Calcul de la moyenne	
 4 Mois le plus pluvieux	
 4 Calcul du pourcentage	
Exercice 6 - Location de vélos	
 Calcul d'une probabilité	
 Changement de situation	
Exercice Présentation	
 Présentation	











COMBO Doulka-rynaini

-  Chercher _____  Maîtrise insuffisante
-  Représenter _____  Maîtrise insuffisante
-  Raisonner _____  Maîtrise insuffisante
-  Calculer _____  Maîtrise insuffisante
-  Communiquer _____  Très bonne maîtrise























Exercice 1 - Facture	
 1 et 2 Lecture du tableau	
 3 Multiplication	
 3 Division	
 3 Sommes	
 4 et 5 Formules tableur	
Exercice 2 - Saut de haies	
 1 Placer les distances	
 2 Distance entre les haies	
 3 Distance entre 2 haies	
Exercice 3 - Etagère	
 1.a Pythagore	
 1.b Tour de la tablette	
 2.a Aire de la tablette	
 2.b Aire total à vernir	
 2.c 3/4 du pot	

Exercice 4 - IMC	
 1 Calcul de l'IMC	
 2 Placer sur le graphique	
 3 Position d'Hakim	
Exercice 5 - Jours de pluie	
 1 Calculer la donnée manquante	
 2 Compléter le graphique	
 3 Calcul de la moyenne	
 4 Mois le plus pluvieux	
 4 Calcul du pourcentage	
Exercice 6 - Location de vélos	
 Calcul d'une probabilité	
 Changement de situation	
Exercice Présentation	
 Présentation	










MAGNELE Chamsidine

-  Chercher _____  Maîtrise insuffisante
-  Représenter _____  Maîtrise insuffisante
-  Raisonner _____  Maîtrise insuffisante
-  Calculer _____  Maîtrise fragile
-  Communiquer _____  Très bonne maîtrise























Exercice 1 - Facture	
 1 et 2 Lecture du tableau	
 3 Multiplication	
 3 Division	
 3 Sommes	
 4 et 5 Formules tableur	
Exercice 2 - Saut de haies	
 1 Placer les distances	
 2 Distance entre les haies	
 3 Distance entre 2 haies	
Exercice 3 - Etagère	
 1.a Pythagore	
 1.b Tour de la tablette	
 2.a Aire de la tablette	
 2.b Aire total à vernir	
 2.c 3/4 du pot	

Exercice 4 - IMC	
 1 Calcul de l'IMC	
 2 Placer sur le graphique	
 3 Position d'Hakim	
Exercice 5 - Jours de pluie	
 1 Calculer la donnée manquante	
 2 Compléter le graphique	
 3 Calcul de la moyenne	
 4 Mois le plus pluvieux	
 4 Calcul du pourcentage	
Exercice 6 - Location de vélos	
 Calcul d'une probabilité	
 Changement de situation	
Exercice Présentation	
 Présentation	











MIRADJI Issoufi

-  Chercher _____  Maîtrise fragile
-  Représenter _____  Maîtrise satisfaisante
-  Raisonner _____  Maîtrise insuffisante
-  Calculer _____  Maîtrise fragile
-  Communiquer _____  Très bonne maîtrise























Exercice 1 - Facture	
 1 et 2 Lecture du tableau	
 3 Multiplication	
 3 Division	
 3 Sommes	
 4 et 5 Formules tableur	
Exercice 2 - Saut de haies	
 1 Placer les distances	
 2 Distance entre les haies	
 3 Distance entre 2 haies	
Exercice 3 - Etagère	
 1.a Pythagore	
 1.b Tour de la tablette	
 2.a Aire de la tablette	
 2.b Aire total à vernir	
 2.c 3/4 du pot	

Exercice 4 - IMC	
 1 Calcul de l'IMC	
 2 Placer sur le graphique	
 3 Position d'Hakim	
Exercice 5 - Jours de pluie	
 1 Calculer la donnée manquante	
 2 Compléter le graphique	
 3 Calcul de la moyenne	
 4 Mois le plus pluvieux	
 4 Calcul du pourcentage	
Exercice 6 - Location de vélos	
 Calcul d'une probabilité	
 Changement de situation	
Exercice Présentation	
 Présentation	











NIDHOIMI El-fahar

-  Chercher _____  Très bonne maîtrise
-  Représenter _____  Maîtrise insuffisante
-  Raisonner _____  Maîtrise insuffisante
-  Calculer _____  Maîtrise fragile
-  Communiquer _____  Très bonne maîtrise























Exercice 1 - Facture	
 1 et 2 Lecture du tableau	
 3 Multiplication	
 3 Division	
 3 Sommes	
 4 et 5 Formules tableur	
Exercice 2 - Saut de haies	
 1 Placer les distances	
 2 Distance entre les haies	
 3 Distance entre 2 haies	
Exercice 3 - Etagère	
 1.a Pythagore	
 1.b Tour de la tablette	
 2.a Aire de la tablette	
 2.b Aire total à vernir	
 2.c 3/4 du pot	

Exercice 4 - IMC	
 1 Calcul de l'IMC	
 2 Placer sur le graphique	
 3 Position d'Hakim	
Exercice 5 - Jours de pluie	
 1 Calculer la donnée manquante	
 2 Compléter le graphique	
 3 Calcul de la moyenne	
 4 Mois le plus pluvieux	
 4 Calcul du pourcentage	
Exercice 6 - Location de vélos	
 Calcul d'une probabilité	
 Changement de situation	
Exercice Présentation	
 Présentation	











OUSSENI Fayadhui

-  Chercher _____  Maîtrise insuffisante
-  Représenter _____  Maîtrise insuffisante
-  Raisonner _____  Maîtrise insuffisante
-  Calculer _____  Maîtrise insuffisante
-  Communiquer _____  Maîtrise satisfaisante























Exercice 1 - Facture	
 1 et 2 Lecture du tableau	
 3 Multiplication	
 3 Division	
 3 Sommes	
 4 et 5 Formules tableur	
Exercice 2 - Saut de haies	
 1 Placer les distances	
 2 Distance entre les haies	
 3 Distance entre 2 haies	
Exercice 3 - Etagère	
 1.a Pythagore	
 1.b Tour de la tablette	
 2.a Aire de la tablette	
 2.b Aire total à vernir	
 2.c 3/4 du pot	

Exercice 4 - IMC	
 1 Calcul de l'IMC	
 2 Placer sur le graphique	
 3 Position d'Hakim	
Exercice 5 - Jours de pluie	
 1 Calculer la donnée manquante	
 2 Compléter le graphique	
 3 Calcul de la moyenne	
 4 Mois le plus pluvieux	
 4 Calcul du pourcentage	
Exercice 6 - Location de vélos	
 Calcul d'une probabilité	
 Changement de situation	
Exercice Présentation	
 Présentation	







SAÏD Dalila

-  Chercher _____  Très bonne maîtrise
-  Représenter _____  Maîtrise insuffisante
-  Raisonner _____  Maîtrise insuffisante
-  Calculer _____  Maîtrise fragile
-  Communiquer _____  Très bonne maîtrise























Exercice 1 - Facture	
 1 et 2 Lecture du tableau	
 3 Multiplication	
 3 Division	
 3 Sommes	
 4 et 5 Formules tableur	
Exercice 2 - Saut de haies	
 1 Placer les distances	
 2 Distance entre les haies	
 3 Distance entre 2 haies	
Exercice 3 - Etagère	
 1.a Pythagore	
 1.b Tour de la tablette	
 2.a Aire de la tablette	
 2.b Aire total à vernir	
 2.c 3/4 du pot	

Exercice 4 - IMC	
 1 Calcul de l'IMC	
 2 Placer sur le graphique	
 3 Position d'Hakim	
Exercice 5 - Jours de pluie	
 1 Calculer la donnée manquante	
 2 Compléter le graphique	
 3 Calcul de la moyenne	
 4 Mois le plus pluvieux	
 4 Calcul du pourcentage	
Exercice 6 - Location de vélos	
 Calcul d'une probabilité	
 Changement de situation	
Exercice Présentation	
 Présentation	









SAID OMAR Nadjoi

-  Chercher _____  Très bonne maîtrise
-  Représenter _____  Maîtrise fragile
-  Raisonner _____  Maîtrise insuffisante
-  Calculer _____  Maîtrise satisfaisante
-  Communiquer _____  Très bonne maîtrise























Exercice 1 - Facture	
 1 et 2 Lecture du tableau	
 3 Multiplication	
 3 Division	
 3 Sommes	
 4 et 5 Formules tableur	
Exercice 2 - Saut de haies	
 1 Placer les distances	
 2 Distance entre les haies	
 3 Distance entre 2 haies	
Exercice 3 - Etagère	
 1.a Pythagore	
 1.b Tour de la tablette	
 2.a Aire de la tablette	
 2.b Aire total à vernir	
 2.c 3/4 du pot	

Exercice 4 - IMC	
 1 Calcul de l'IMC	
 2 Placer sur le graphique	
 3 Position d'Hakim	
Exercice 5 - Jours de pluie	
 1 Calculer la donnée manquante	
 2 Compléter le graphique	
 3 Calcul de la moyenne	
 4 Mois le plus pluvieux	
 4 Calcul du pourcentage	
Exercice 6 - Location de vélos	
 Calcul d'une probabilité	
 Changement de situation	
Exercice Présentation	
 Présentation	










TSIMPOU Zoubert

-  Chercher _____  Maîtrise insuffisante
-  Représenter _____  Maîtrise insuffisante
-  Raisonner _____  Maîtrise insuffisante
-  Calculer _____  Maîtrise insuffisante
-  Communiquer _____  Très bonne maîtrise























Exercice 1 - Facture	
 1 et 2 Lecture du tableau	
 3 Multiplication	
 3 Division	
 3 Sommes	
 4 et 5 Formules tableur	
Exercice 2 - Saut de haies	
 1 Placer les distances	
 2 Distance entre les haies	
 3 Distance entre 2 haies	
Exercice 3 - Etagère	
 1.a Pythagore	
 1.b Tour de la tablette	
 2.a Aire de la tablette	
 2.b Aire total à vernir	
 2.c 3/4 du pot	

Exercice 4 - IMC	
 1 Calcul de l'IMC	
 2 Placer sur le graphique	
 3 Position d'Hakim	
Exercice 5 - Jours de pluie	
 1 Calculer la donnée manquante	
 2 Compléter le graphique	
 3 Calcul de la moyenne	
 4 Mois le plus pluvieux	
 4 Calcul du pourcentage	
Exercice 6 - Location de vélos	
 Calcul d'une probabilité	
 Changement de situation	
Exercice Présentation	
 Présentation	











SAID Rachida

-  Chercher _____  Maîtrise insuffisante
-  Représenter _____  Maîtrise insuffisante
-  Raisonner _____  Maîtrise insuffisante
-  Calculer _____  Maîtrise fragile
-  Communiquer _____  Très bonne maîtrise






















Exercice 1 - Facture	
 1 et 2 Lecture du tableau	
 3 Multiplication	
 3 Division	
 3 Sommes	
 4 et 5 Formules tableur	
Exercice 2 - Saut de haies	
 1 Placer les distances	
 2 Distance entre les haies	
 3 Distance entre 2 haies	
Exercice 3 - Etagère	
 1.a Pythagore	
 1.b Tour de la tablette	
 2.a Aire de la tablette	
 2.b Aire total à vernir	
 2.c 3/4 du pot	

Exercice 4 - IMC	
 1 Calcul de l'IMC	
 2 Placer sur le graphique	
 3 Position d'Hakim	
Exercice 5 - Jours de pluie	
 1 Calculer la donnée manquante	
 2 Compléter le graphique	
 3 Calcul de la moyenne	
 4 Mois le plus pluvieux	
 4 Calcul du pourcentage	
Exercice 6 - Location de vélos	
 Calcul d'une probabilité	
 Changement de situation	
Exercice Présentation	
 Présentation	

IBRAHIM, Izaki

-  Chercher _____  Maîtrise insuffisante
-  Représenter _____  Maîtrise insuffisante
-  Raisonner _____  Maîtrise insuffisante
-  Calculer _____  Maîtrise insuffisante
-  Communiquer _____  Très bonne maîtrise

Exercice 1 - Facture	
 1 et 2 Lecture du tableau	
 3 Multiplication	
 3 Division	
 3 Sommes	
 4 et 5 Formules tableur	
Exercice 2 - Saut de haies	
 1 Placer les distances	
 2 Distance entre les haies	
 3 Distance entre 2 haies	
Exercice 3 - Etagère	
 1.a Pythagore	
 1.b Tour de la tablette	
 2.a Aire de la tablette	
 2.b Aire total à vernir	
 2.c 3/4 du pot	

Exercice 4 - IMC	
 1 Calcul de l'IMC	
 2 Placer sur le graphique	
 3 Position d'Hakim	
Exercice 5 - Jours de pluie	
 1 Calculer la donnée manquante	
 2 Compléter le graphique	
 3 Calcul de la moyenne	
 4 Mois le plus pluvieux	
 4 Calcul du pourcentage	
Exercice 6 - Location de vélos	
 Calcul d'une probabilité	
 Changement de situation	
Exercice Présentation	
 Présentation	