






302 –

Compétences évaluées











-  Calculer
-  Représenter
-  Modéliser
-  Communiquer
-  Raisonner



competence fullname	level				
	Mod	Rep	Rai	Cal	Com
ABDALLAH ALLAOUI Taiassima					
ADANI Ismou					
AHAMADA Dhoulkamal					
AHAMADI Asbahati					
AHAMADI OUSSENI Ansufofidine					
AHAMED Fayadhi					
AHMED SAID Hadaïta					
ALI MADI Anissa					
ALI Raydel					
ATTOUMANE ALI Fatima					
BACHIROU Elzame					




Continued on next page





competence fullname	level				
	Mod	Rep	Rai	Cal	Com
BINALI Zalida					
BOINA Abdillah mze limassi					
BOUDRA Zaankidine					
BOURA Kayssoiria					
HALADI Asna					
HALIDI Soibrata					
HAMEDALY Doulkifly					
IBRAHIM Chaharzade					
IBRAHIM Nassur					
INOUSSA Anchoura					
MOHAMED Nadia					
MOUHOUHOIRE Izak					
MOUSSRI Bakari					
SAKOTRA Claudiana					
SAÏD Fatoumia					





ABDALLAH ALLAOUI Taiassima








- 
 Modéliser _____  Maîtrise fragile
- 
 Représenter _____  Maîtrise insuffisante
- 
 Raisonner _____  Maîtrise insuffisante
- 
 Calculer _____  Maîtrise insuffisante
- 
 Communiquer _____  Maîtrise satisfaisante

Exercice 1 QCM	
1 à 3	
4 à 6	

Exercice 2 Bien assis ?	
Reconnaître Thalès	
Rédaction	
Les calculs	

Exercice 3 L'urne	
1 à 3 Calculer une probabilité	
2 Comparer des probabilités	
2 Penser au probabilités	
3 Changement de situation	

Exercice 4 Programme de calculs	
Phrase de Sophie et Gabriel	
Phrase de Martin	
Développer (Faïza)	
Reconnaître le double	











Exercice 5 Roule cycliste	
1.a Calcul de la distance	
1.b Formule tableur	
1.c Construction de la fonction	
1.d Calcul du temps	
2 a et b Lecture graphique	
2.c Calcul de la distance	
d Reconnaître la proportionnalité	



Exercice Présentation










302 –





ADANI Ismou








- 
 Modéliser _____  Maîtrise satisfaisante
- 
 Représenter _____  Maîtrise satisfaisante
- 
 Raisonner _____  Maîtrise fragile
- 
 Calculer _____  Maîtrise fragile
- 
 Communiquer _____  Maîtrise satisfaisante

Exercice 1 QCM	
1 à 3	
4 à 6	

Exercice 2 Bien assis ?	
Reconnaître Thalès	
Rédaction	
Les calculs	

Exercice 3 L'urne	
1 à 3 Calculer une probabilité	
2 Comparer des probabilités	
2 Penser au probabilités	
3 Changement de situation	











Exercice 4 Programme de calculs	
Phrase de Sophie et Gabriel	
Phrase de Martin	
Développer (Faïza)	
Reconnaître le double	



Exercice 5 Roule cycliste	
1.a Calcul de la distance	
1.b Formule tableur	
1.c Construction de la fonction	
1.d Calcul du temps	
2 a et b Lecture graphique	
2.c Calcul de la distance	
d Reconnaître la proportionnalité	




Exercice Présentation











AHAMADA Dhoulkamal








- 
 Modéliser _____  Maîtrise fragile
- 
 Représenter _____  Maîtrise fragile
- 
 Reasonner _____  Maîtrise fragile
- 
 Calculer _____  Maîtrise fragile
- 
 Communiquer _____  Maîtrise satisfaisante


Exercice 1 QCM	
1 à 3	
4 à 6	

Exercice 2 Bien assis ?	
Reconnaître Thalès	
Rédaction	
Les calculs	

Exercice 3 L'urne	
1 à 3 Calculer une probabilité	
2 Comparer des probabilités	
2 Penser au probabilités	
3 Changement de situation	











Exercice 4 Programme de calculs	
Phrase de Sophie et Gabriel	
Phrase de Martin	
Développer (Faïza)	
Reconnaître le double	



Exercice 5 Roule cycliste	
1.a Calcul de la distance	
1.b Formule tableur	
1.c Construction de la fonction	
1.d Calcul du temps	
2 a et b Lecture graphique	
2.c Calcul de la distance	
d Reconnaître la proportionnalité	




Exercice Présentation	
	





302 –





AHAMADI Asbahati








- 
 Modéliser _____  Maîtrise satisfaisante
- 
 Représenter _____  Maîtrise satisfaisante
- 
 Raisonner _____  Maîtrise satisfaisante
- 
 Calculer _____  Maîtrise fragile
- 
 Communiquer _____  Très bonne maîtrise


Exercice 1 QCM	
1 à 3	
4 à 6	

Exercice 2 Bien assis ?	
Reconnaître Thalès	
Rédaction	
Les calculs	





Exercice 3 L'urne	
1 à 3 Calculer une probabilité	
2 Comparer des probabilités	
2 Penser au probabilités	
3 Changement de situation	



Exercice 4 Programme de calculs	
Phrase de Sophie et Gabriel	
Phrase de Martin	
Développer (Faïza)	
Reconnaître le double	




Exercice 5 Roule cycliste	
1.a Calcul de la distance	
1.b Formule tableur	
1.c Construction de la fonction	
1.d Calcul du temps	
2 a et b Lecture graphique	
2.c Calcul de la distance	
d Reconnaître la proportionnalité	





Exercice Présentation	
	





AHAMADI OUSSENI Ansufofidine








- 
 Modéliser _____  Maîtrise fragile
- 
 Représenter _____  Maîtrise insuffisante
- 
 Raisonner _____  Maîtrise fragile
- 
 Calculer _____  Maîtrise fragile
- 
 Communiquer _____  Maîtrise satisfaisante


Exercice 1 QCM	
1 à 3	
4 à 6	

Exercice 2 Bien assis ?	
Reconnaître Thalès	
Rédaction	
Les calculs	






Exercice 3 L'urne	
1 à 3 Calculer une probabilité	
2 Comparer des probabilités	
2 Penser au probabilités	
3 Changement de situation	



Exercice 4 Programme de calculs	
Phrase de Sophie et Gabriel	
Phrase de Martin	
Développer (Faïza)	
Reconnaître le double	




Exercice 5 Roule cycliste	
1.a Calcul de la distance	
1.b Formule tableur	
1.c Construction de la fonction	
1.d Calcul du temps	
2 a et b Lecture graphique	
2.c Calcul de la distance	
d Reconnaître la proportionnalité	





Exercice Présentation	
	





AHAMED Fayadhi








- 
 Modéliser _____  Maîtrise fragile
- 
 Représenter _____  Maîtrise fragile
- 
 Raisonner _____  Maîtrise fragile
- 
 Calculer _____  Maîtrise fragile
- 
 Communiquer _____  Maîtrise fragile


Exercice 1 QCM	
1 à 3	
4 à 6	

Exercice 2 Bien assis ?	
Reconnaître Thalès	
Rédaction	
Les calculs	











Exercice 3 L'urne	
1 à 3 Calculer une probabilité	
2 Comparer des probabilités	
2 Penser au probabilités	
3 Changement de situation	



Exercice 4 Programme de calculs	
Phrase de Sophie et Gabriel	
Phrase de Martin	
Développer (Faïza)	
Reconnaître le double	




Exercice 5 Roule cycliste	
1.a Calcul de la distance	
1.b Formule tableur	
1.c Construction de la fonction	
1.d Calcul du temps	
2 a et b Lecture graphique	
2.c Calcul de la distance	
d Reconnaître la proportionnalité	





Exercice Présentation	
	





AHMED SAID Hadaïta








- 
 Modéliser _____  Maîtrise satisfaisante
- 
 Représenter _____  Maîtrise fragile
- 
 Raisonner _____  Maîtrise satisfaisante
- 
 Calculer _____  Maîtrise satisfaisante
- 
 Communiquer _____  Très bonne maîtrise


Exercice 1 QCM	
1 à 3	
4 à 6	

Exercice 2 Bien assis ?	
Reconnaître Thalès	
Rédaction	
Les calculs	

Exercice 3 L'urne	
1 à 3 Calculer une probabilité	
2 Comparer des probabilités	
2 Penser au probabilités	
3 Changement de situation	











Exercice 4 Programme de calculs	
Phrase de Sophie et Gabriel	
Phrase de Martin	
Développer (Faïza)	
Reconnaître le double	



Exercice 5 Roule cycliste	
1.a Calcul de la distance	
1.b Formule tableur	
1.c Construction de la fonction	
1.d Calcul du temps	
2 a et b Lecture graphique	
2.c Calcul de la distance	
d Reconnaître la proportionnalité	




Exercice Présentation	
	





302 –





ALI MADANI Anissa








-  Modéliser _____  Maîtrise fragile
-  Représenter _____  Maîtrise satisfaisante
-  Raisonner _____  Maîtrise satisfaisante
-  Calculer _____  Maîtrise insuffisante
-  Communiquer _____  Maîtrise satisfaisante


Exercice 1 QCM	
1 à 3	
4 à 6	

Exercice 2 Bien assis ?	
Reconnaître Thalès	
Rédaction	
Les calculs	











Exercice 3 L'urne	
1 à 3 Calculer une probabilité	
2 Comparer des probabilités	
2 Penser aux probabilités	
3 Changement de situation	



Exercice 4 Programme de calculs	
Phrase de Sophie et Gabriel	
Phrase de Martin	
Développer (Faïza)	
Reconnaître le double	




Exercice 5 Roule cycliste	
1.a Calcul de la distance	
1.b Formule tableur	
1.c Construction de la fonction	
1.d Calcul du temps	
2 a et b Lecture graphique	
2.c Calcul de la distance	
d Reconnaître la proportionnalité	





Exercice Présentation	
	





ALI Raydel








- 
 Modéliser _____  Maîtrise fragile
- 
 Représenter _____  Maîtrise satisfaisante
- 
 Raisonner _____  Maîtrise satisfaisante
- 
 Calculer _____  Maîtrise fragile
- 
 Communiquer _____  Maîtrise satisfaisante


Exercice 1 QCM	
1 à 3	
4 à 6	

Exercice 2 Bien assis ?	
Reconnaître Thalès	
Rédaction	
Les calculs	

Exercice 3 L'urne	
1 à 3 Calculer une probabilité	
2 Comparer des probabilités	
2 Penser au probabilités	
3 Changement de situation	











Exercice 4 Programme de calculs	
Phrase de Sophie et Gabriel	
Phrase de Martin	
Développer (Faïza)	
Reconnaître le double	



Exercice 5 Roule cycliste	
1.a Calcul de la distance	
1.b Formule tableur	
1.c Construction de la fonction	
1.d Calcul du temps	
2 a et b Lecture graphique	
2.c Calcul de la distance	
d Reconnaître la proportionnalité	




Exercice Présentation	
	





302 –





ATTOUMANE ALI Fatima








- 
 Modéliser _____  Maîtrise satisfaisante
- 
 Représenter _____  Maîtrise fragile
- 
 Raisonner _____  Maîtrise satisfaisante
- 
 Calculer _____  Maîtrise fragile
- 
 Communiquer _____  Très bonne maîtrise

Exercice 1 QCM	
1 à 3	
4 à 6	

Exercice 2 Bien assis ?	
Reconnaître Thalès	
Rédaction	
Les calculs	

Exercice 3 L'urne	
1 à 3 Calculer une probabilité	
2 Comparer des probabilités	
2 Penser au probabilités	
3 Changement de situation	

Exercice 4 Programme de calculs	
Phrase de Sophie et Gabriel	
Phrase de Martin	
Développer (Faïza)	
Reconnaître le double	











Exercice 5 Roule cycliste	
1.a Calcul de la distance	
1.b Formule tableur	
1.c Construction de la fonction	
1.d Calcul du temps	
2 a et b Lecture graphique	
2.c Calcul de la distance	
d Reconnaître la proportionnalité	



Exercice Présentation










302 –





BACHIROU Elzame








-  Modéliser _____  Maîtrise insuffisante
-  Représenter _____  Maîtrise satisfaisante
-  Raisonner _____  Maîtrise insuffisante
-  Calculer _____  Maîtrise insuffisante
-  Communiquer _____  Maîtrise fragile


Exercice 1 QCM	
1 à 3	
4 à 6	

Exercice 2 Bien assis ?	
Reconnaître Thalès	
Rédaction	
Les calculs	

Exercice 3 L'urne	
1 à 3 Calculer une probabilité	
2 Comparer des probabilités	
2 Penser au probabilités	
3 Changement de situation	











Exercice 4 Programme de calculs	
Phrase de Sophie et Gabriel	
Phrase de Martin	
Développer (Faïza)	
Reconnaître le double	



Exercice 5 Roule cycliste	
1.a Calcul de la distance	
1.b Formule tableur	
1.c Construction de la fonction	
1.d Calcul du temps	
2 a et b Lecture graphique	
2.c Calcul de la distance	
d Reconnaître la proportionnalité	




Exercice Présentation	
	





302 –





BINALI Zalida








- 
 Modéliser _____  Maîtrise fragile
- 
 Représenter _____  Maîtrise fragile
- 
 Reasonner _____  Maîtrise satisfaisante
- 
 Calculer _____  Maîtrise satisfaisante
- 
 Communiquer _____  Maîtrise satisfaisante

Exercice 1 QCM	
1 à 3	
4 à 6	

Exercice 2 Bien assis ?	
Reconnaître Thalès	
Rédaction	
Les calculs	

Exercice 3 L'urne	
1 à 3 Calculer une probabilité	
2 Comparer des probabilités	
2 Penser au probabilités	
3 Changement de situation	

Exercice 4 Programme de calculs	
Phrase de Sophie et Gabriel	
Phrase de Martin	
Développer (Faïza)	
Reconnaître le double	











Exercice 5 Roule cycliste	
1.a Calcul de la distance	
1.b Formule tableur	
1.c Construction de la fonction	
1.d Calcul du temps	
2 a et b Lecture graphique	
2.c Calcul de la distance	
d Reconnaître la proportionnalité	



Exercice Présentation










302 –





BOINA Abdillah mze limassi








- 
 Modéliser _____  Maîtrise satisfaisante
- 
 Représenter _____  Maîtrise satisfaisante
- 
 Raisonner _____  Maîtrise satisfaisante
- 
 Calculer _____  Maîtrise fragile
- 
 Communiquer _____  Maîtrise fragile


Exercice 1 QCM	
1 à 3	
4 à 6	

Exercice 2 Bien assis ?	
Reconnaître Thalès	
Rédaction	
Les calculs	

Exercice 3 L'urne	
1 à 3 Calculer une probabilité	
2 Comparer des probabilités	
2 Penser au probabilités	
3 Changement de situation	











Exercice 4 Programme de calculs	
Phrase de Sophie et Gabriel	
Phrase de Martin	
Développer (Faïza)	
Reconnaître le double	



Exercice 5 Roule cycliste	
1.a Calcul de la distance	
1.b Formule tableur	
1.c Construction de la fonction	
1.d Calcul du temps	
2 a et b Lecture graphique	
2.c Calcul de la distance	
d Reconnaître la proportionnalité	




Exercice Présentation	
	





302 –





BOUDRA Zaankidine








-  Modéliser _____  Maîtrise fragile
-  Représenter _____  Maîtrise fragile
-  Raisonner _____  Maîtrise insuffisante
-  Calculer _____  Maîtrise fragile
-  Communiquer _____  Très bonne maîtrise


Exercice 1 QCM	
1 à 3	
4 à 6	

Exercice 2 Bien assis ?	
Reconnaître Thalès	
Rédaction	
Les calculs	

Exercice 3 L'urne	
1 à 3 Calculer une probabilité	
2 Comparer des probabilités	
2 Penser au probabilités	
3 Changement de situation	



Exercice 4 Programme de calculs	
Phrase de Sophie et Gabriel	
Phrase de Martin	
Développer (Faïza)	
Reconnaître le double	



Exercice 5 Roule cycliste	
1.a Calcul de la distance	
1.b Formule tableur	
1.c Construction de la fonction	
1.d Calcul du temps	
2 a et b Lecture graphique	
2.c Calcul de la distance	
d Reconnaître la proportionnalité	




Exercice Présentation	
	





302 –





BOURA Kaysoiria








- 
 Modéliser _____  Maîtrise insuffisante
- 
 Représenter _____  Maîtrise insuffisante
- 
 Reasonner _____  Maîtrise insuffisante
- 
 Calculer _____  Maîtrise fragile
- 
 Communiquer _____  Maîtrise satisfaisante


Exercice 1 QCM	
1 à 3	
4 à 6	

Exercice 2 Bien assis ?	
Reconnaître Thalès	
Rédaction	
Les calculs	

Exercice 3 L'urne	
1 à 3 Calculer une probabilité	
2 Comparer des probabilités	
2 Penser au probabilités	
3 Changement de situation	










Exercice 4 Programme de calculs	
Phrase de Sophie et Gabriel	
Phrase de Martin	
Développer (Faïza)	
Reconnaître le double	



Exercice 5 Roule cycliste	
1.a Calcul de la distance	
1.b Formule tableur	
1.c Construction de la fonction	
1.d Calcul du temps	
2 a et b Lecture graphique	
2.c Calcul de la distance	
d Reconnaître la proportionnalité	




Exercice Présentation	
	





302 –





HALADI Asna








-  Modéliser _____  Maîtrise satisfaisante
-  Représenter _____  Maîtrise satisfaisante
-  Raisonner _____  Maîtrise satisfaisante
-  Calculer _____  Maîtrise satisfaisante
-  Communiquer _____  Maîtrise satisfaisante


Exercice 1 QCM	
1 à 3	
4 à 6	

Exercice 2 Bien assis ?	
Reconnaître Thalès	
Rédaction	
Les calculs	

Exercice 3 L'urne	
1 à 3 Calculer une probabilité	
2 Comparer des probabilités	
2 Penser au probabilités	
3 Changement de situation	







Exercice 4 Programme de calculs	
Phrase de Sophie et Gabriel	
Phrase de Martin	
Développer (Faïza)	
Reconnaître le double	



Exercice 5 Roule cycliste	
1.a Calcul de la distance	
1.b Formule tableur	
1.c Construction de la fonction	
1.d Calcul du temps	
2 a et b Lecture graphique	
2.c Calcul de la distance	
d Reconnaître la proportionnalité	




Exercice Présentation	
	





302 –





HALIDI Soibrata








-  Modéliser _____  Maîtrise insuffisante
-  Représenter _____  Maîtrise fragile
-  Raisonner _____  Maîtrise insuffisante
-  Calculer _____  Maîtrise fragile
-  Communiquer _____  Très bonne maîtrise


Exercice 1 QCM	
1 à 3	
4 à 6	

Exercice 2 Bien assis ?	
Reconnaître Thalès	
Rédaction	
Les calculs	

Exercice 3 L'urne	
1 à 3 Calculer une probabilité	
2 Comparer des probabilités	
2 Penser au probabilités	
3 Changement de situation	











Exercice 4 Programme de calculs	
Phrase de Sophie et Gabriel	
Phrase de Martin	
Développer (Faïza)	
Reconnaître le double	



Exercice 5 Roule cycliste	
1.a Calcul de la distance	
1.b Formule tableur	
1.c Construction de la fonction	
1.d Calcul du temps	
2 a et b Lecture graphique	
2.c Calcul de la distance	
d Reconnaître la proportionnalité	




Exercice Présentation	
	





302 –





HAMEDALY Doukifly








-  Modéliser _____  Maîtrise fragile
-  Représenter _____  Maîtrise fragile
-  Raisonner _____  Maîtrise fragile
-  Calculer _____  Maîtrise insuffisante
-  Communiquer _____  Maîtrise fragile


Exercice 1 QCM	
1 à 3	
4 à 6	

Exercice 2 Bien assis ?	
Reconnaître Thalès	
Rédaction	
Les calculs	







Exercice 3 L'urne	
1 à 3 Calculer une probabilité	
2 Comparer des probabilités	
2 Penser au probabilités	
3 Changement de situation	



Exercice 4 Programme de calculs	
Phrase de Sophie et Gabriel	
Phrase de Martin	
Développer (Faïza)	
Reconnaître le double	




Exercice 5 Roule cycliste	
1.a Calcul de la distance	
1.b Formule tableur	
1.c Construction de la fonction	
1.d Calcul du temps	
2 a et b Lecture graphique	
2.c Calcul de la distance	
d Reconnaître la proportionnalité	





Exercice Présentation	
	





IBRAHIM Nassur








-  Modéliser _____  Maîtrise fragile
-  Représenter _____  Maîtrise satisfaisante
-  Reasonner _____  Maîtrise fragile
-  Calculer _____  Maîtrise insuffisante
-  Communiquer _____  Maîtrise satisfaisante

Exercice 1 QCM	
1 à 3	
4 à 6	

Exercice 2 Bien assis ?	
Reconnaître Thalès	
Rédaction	
Les calculs	

Exercice 3 L'urne	
1 à 3 Calculer une probabilité	
2 Comparer des probabilités	
2 Penser au probabilités	
3 Changement de situation	










Exercice 4 Programme de calculs	
Phrase de Sophie et Gabriel	
Phrase de Martin	
Développer (Faïza)	
Reconnaître le double	



Exercice 5 Roule cycliste	
1.a Calcul de la distance	
1.b Formule tableur	
1.c Construction de la fonction	
1.d Calcul du temps	
2 a et b Lecture graphique	
2.c Calcul de la distance	
d Reconnaître la proportionnalité	




Exercice Présentation











INOUSSA Anchoura








-  Modéliser _____  Maîtrise insuffisante
-  Représenter _____  Maîtrise fragile
-  Raisonner _____  Maîtrise insuffisante
-  Calculer _____  Maîtrise insuffisante
-  Communiquer _____  Maîtrise insuffisante


Exercice 1 QCM	
1 à 3	
4 à 6	

Exercice 2 Bien assis ?	
Reconnaître Thalès	
Rédaction	
Les calculs	

Exercice 3 L'urne	
1 à 3 Calculer une probabilité	
2 Comparer des probabilités	
2 Penser au probabilités	
3 Changement de situation	











Exercice 4 Programme de calculs	
Phrase de Sophie et Gabriel	
Phrase de Martin	
Développer (Faïza)	
Reconnaître le double	



Exercice 5 Roule cycliste	
1.a Calcul de la distance	
1.b Formule tableur	
1.c Construction de la fonction	
1.d Calcul du temps	
2 a et b Lecture graphique	
2.c Calcul de la distance	
d Reconnaître la proportionnalité	




Exercice Présentation	
	





302 –





MOHAMED Nadia








-  Modéliser _____  Maîtrise fragile
-  Représenter _____  Maîtrise insuffisante
-  Raisonner _____  Maîtrise satisfaisante
-  Calculer _____  Maîtrise fragile
-  Communiquer _____  Maîtrise satisfaisante

Exercice 1 QCM	
1 à 3	
4 à 6	

Exercice 2 Bien assis ?	
Reconnaître Thalès	
Rédaction	
Les calculs	

Exercice 3 L'urne	
1 à 3 Calculer une probabilité	
2 Comparer des probabilités	
2 Penser au probabilités	
3 Changement de situation	

Exercice 4 Programme de calculs	
Phrase de Sophie et Gabriel	
Phrase de Martin	
Développer (Faïza)	
Reconnaître le double	











Exercice 5 Roule cycliste	
1.a Calcul de la distance	
1.b Formule tableur	
1.c Construction de la fonction	
1.d Calcul du temps	
2 a et b Lecture graphique	
2.c Calcul de la distance	
d Reconnaître la proportionnalité	



Exercice Présentation










302 –





MOUHOUDHOIRE Izak








-  Modéliser _____  Maîtrise fragile
-  Représenter _____  Maîtrise satisfaisante
-  Raisonner _____  Maîtrise fragile
-  Calculer _____  Maîtrise fragile
-  Communiquer _____  Maîtrise insuffisante


Exercice 1 QCM	
1 à 3	
4 à 6	

Exercice 2 Bien assis ?	
Reconnaître Thalès	
Rédaction	
Les calculs	

Exercice 3 L'urne	
1 à 3 Calculer une probabilité	
2 Comparer des probabilités	
2 Penser au probabilités	
3 Changement de situation	











Exercice 4 Programme de calculs	
Phrase de Sophie et Gabriel	
Phrase de Martin	
Développer (Faïza)	
Reconnaître le double	



Exercice 5 Roule cycliste	
1.a Calcul de la distance	
1.b Formule tableur	
1.c Construction de la fonction	
1.d Calcul du temps	
2 a et b Lecture graphique	
2.c Calcul de la distance	
d Reconnaître la proportionnalité	




Exercice Présentation	
	





302 –





MOUSSRI Bakari








-  Modéliser _____  Maîtrise satisfaisante
-  Représenter _____  Maîtrise fragile
-  Raisonner _____  Maîtrise satisfaisante
-  Calculer _____  Maîtrise fragile
-  Communiquer _____  Très bonne maîtrise


Exercice 1 QCM	
1 à 3	
4 à 6	

Exercice 2 Bien assis ?	
Reconnaître Thalès	
Rédaction	
Les calculs	

Exercice 3 L'urne	
1 à 3 Calculer une probabilité	
2 Comparer des probabilités	
2 Penser au probabilités	
3 Changement de situation	











Exercice 4 Programme de calculs	
Phrase de Sophie et Gabriel	
Phrase de Martin	
Développer (Faïza)	
Reconnaître le double	



Exercice 5 Roule cycliste	
1.a Calcul de la distance	
1.b Formule tableur	
1.c Construction de la fonction	
1.d Calcul du temps	
2 a et b Lecture graphique	
2.c Calcul de la distance	
d Reconnaître la proportionnalité	




Exercice Présentation	
	





302 –





SAÏD Fatoumia








-  Modéliser _____  Maîtrise satisfaisante
-  Représenter _____  Maîtrise fragile
-  Raisonner _____  Maîtrise satisfaisante
-  Calculer _____  Maîtrise fragile
-  Communiquer _____  Très bonne maîtrise


Exercice 1 QCM	
1 à 3	
4 à 6	

Exercice 2 Bien assis ?	
Reconnaître Thalès	
Rédaction	
Les calculs	

Exercice 3 L'urne	
1 à 3 Calculer une probabilité	
2 Comparer des probabilités	
2 Penser au probabilités	
3 Changement de situation	











Exercice 4 Programme de calculs	
Phrase de Sophie et Gabriel	
Phrase de Martin	
Développer (Faïza)	
Reconnaître le double	



Exercice 5 Roule cycliste	
1.a Calcul de la distance	
1.b Formule tableur	
1.c Construction de la fonction	
1.d Calcul du temps	
2 a et b Lecture graphique	
2.c Calcul de la distance	
d Reconnaître la proportionnalité	




Exercice Présentation	
	





302 –





SAKOTRA Claudiana








-  Modéliser _____  Maîtrise fragile
-  Représenter _____  Maîtrise fragile
-  Raisonner _____  Maîtrise satisfaisante
-  Calculer _____  Maîtrise fragile
-  Communiquer _____  Très bonne maîtrise


Exercice 1 QCM	
1 à 3	
4 à 6	

Exercice 2 Bien assis ?	
Reconnaître Thalès	
Rédaction	
Les calculs	

Exercice 3 L'urne	
1 à 3 Calculer une probabilité	
2 Comparer des probabilités	
2 Penser au probabilités	
3 Changement de situation	











Exercice 4 Programme de calculs	
Phrase de Sophie et Gabriel	
Phrase de Martin	
Développer (Faïza)	
Reconnaître le double	



Exercice 5 Roule cycliste	
1.a Calcul de la distance	
1.b Formule tableur	
1.c Construction de la fonction	
1.d Calcul du temps	
2 a et b Lecture graphique	
2.c Calcul de la distance	
d Reconnaître la proportionnalité	




Exercice Présentation	
	





302 –





IBRAHIM Chaharzade








- 
 Modéliser _____  Maîtrise satisfaisante
- 
 Représenter _____  Maîtrise satisfaisante
- 
 Raisonner _____  Maîtrise fragile
- 
 Calculer _____  Maîtrise fragile
- 
 Communiquer _____  Maîtrise satisfaisante

Exercice 1 QCM	
1 à 3	
4 à 6	

Exercice 2 Bien assis ?	
Reconnaître Thalès	
Rédaction	
Les calculs	

Exercice 3 L'urne	
1 à 3 Calculer une probabilité	
2 Comparer des probabilités	
2 Penser au probabilités	
3 Changement de situation	

Exercice 4 Programme de calculs	
Phrase de Sophie et Gabriel	
Phrase de Martin	
Développer (Faïza)	
Reconnaître le double	

Exercice 5 Roule cycliste	
1.a Calcul de la distance	
1.b Formule tableur	
1.c Construction de la fonction	
1.d Calcul du temps	
2 a et b Lecture graphique	
2.c Calcul de la distance	
d Reconnaître la proportionnalité	

Exercice Présentation	
	