






306 –

Compétences évaluées

-  Chercher
-  Représenter
-  Calculer
-  Modéliser
-  Communiquer

fullname	level					
	competence	Cher	Mod	Rep	Cal	Com
	ABDALLAH Rachma					
ABDOU Kassim						
AHAMADI Irchadi						
AHAMED Mikidadi						
ANLI El anziz						
ANSSURDINE Zaidou						
BACAR MOUSTADRANE Rakchat						
BOINA Chadia						
CHANFI Fayçoil						











Continued on next page




fullname	level					
	competence	Cher	Mod	Rep	Cal	Com
	CHARIF Djaël					
COMBO Doulka-rynaini						
MAGNELE Chamsidine						
MBAROUKOU Dania						
MIRADJI Issoufi						
NIDHOIMI El-fahar						
OUSSENI Fayadhui						
SAID OMAR Nadjoi						
SAÏD Dalila						
TSIMPOU Zoubert						







DS1

306 –

ABDALLAH Rachma

-  Chercher _____  Maîtrise satisfaisante
-  Modéliser _____  Très bonne maîtrise
-  Représenter _____  Maîtrise satisfaisante
-  Calculer _____  Maîtrise satisfaisante
-  Communiquer _____  Maîtrise satisfaisante











Exercice 1	
1 à 5 Retrouver les éléments sur le plan	
1 à 5 Lire et utiliser les informations du plan	
3 à 5 Calculer avec des longueurs	




Exercice 2	
1 à 3 Choisir l'opération	
1 à 3 Rédaction des calculs	
1 à 3 Phrases et explications	
Exercice Travail Groupe	
Lire correctement les longueurs	
Faire les bons calculs	
Explications	




DS1

306 –

ABDOU Kassim

-  Chercher _____  Maîtrise fragile
-  Modéliser _____  Maîtrise fragile
-  Représenter _____  Maîtrise fragile
-  Calculer _____  Maîtrise insuffisante
-  Communiquer _____  Maîtrise fragile











Exercice 1	
1 à 5 Retrouver les éléments sur le plan	
1 à 5 Lire et utiliser les informations du plan	
3 à 5 Calculer avec des longueurs	




Exercice 2	
1 à 3 Choisir l'opération	
1 à 3 Rédaction des calculs	
1 à 3 Phrases et explications	







Exercice Travail Groupe	
Lire correctement les longueurs	
Faire les bons calculs	
Explications	

306 –

AHAMADI Irchadi

-  Chercher _____  Maîtrise satisfaisante
-  Modéliser _____  Très bonne maîtrise
-  Représenter _____  Maîtrise satisfaisante
-  Calculer _____  Maîtrise fragile
-  Communiquer _____  Maîtrise satisfaisante











Exercice 1	
1 à 5 Retrouver les éléments sur le plan	
1 à 5 Lire et utiliser les informations du plan	
3 à 5 Calculer avec des longueurs	




Exercice 2	
1 à 3 Choisir l'opération	
1 à 3 Rédaction des calculs	
1 à 3 Phrases et explications	
Exercice Travail Groupe	
Lire correctement les longueurs	
Faire les bons calculs	
Explications	




DS1




306 –

AHAMED Mikidadi

-  Chercher _____  Très bonne maîtrise
-  Modéliser _____  Très bonne maîtrise
-  Représenter _____  Maîtrise satisfaisante
-  Calculer _____  Maîtrise satisfaisante
-  Communiquer _____  Maîtrise satisfaisante

Exercice 1	
1 à 5 Retrouver les éléments sur le plan	
1 à 5 Lire et utiliser les informations du plan	
3 à 5 Calculer avec des longueurs	











Exercice 2	
1 à 3 Choisir l'opération	
1 à 3 Rédaction des calculs	
1 à 3 Phrases et explications	




Exercice Travail Groupe	
Lire correctement les longueurs	
Faire les bons calculs	
Explications	




DS1

306 –

ANLI El anziz

-  Chercher _____  Très bonne maîtrise
-  Modéliser _____  Maîtrise satisfaisante
-  Représenter _____  Maîtrise satisfaisante
-  Calculer _____  Maîtrise fragile
-  Communiquer _____  Maîtrise satisfaisante











Exercice 1	
1 à 5 Retrouver les éléments sur le plan	
1 à 5 Lire et utiliser les informations du plan	
3 à 5 Calculer avec des longueurs	




Exercice 2	
1 à 3 Choisir l'opération	
1 à 3 Rédaction des calculs	
1 à 3 Phrases et explications	







Exercice Travail Groupe	
Lire correctement les longueurs	
Faire les bons calculs	
Explications	

306 –

ANSSURDINE Zaidou

-  Chercher _____  Maîtrise satisfaisante
-  Modéliser _____  Maîtrise satisfaisante
-  Représenter _____  Maîtrise satisfaisante
-  Calculer _____  Maîtrise fragile
-  Communiquer _____  Maîtrise satisfaisante











Exercice 1	
1 à 5 Retrouver les éléments sur le plan	
1 à 5 Lire et utiliser les informations du plan	
3 à 5 Calculer avec des longueurs	




Exercice 2	
1 à 3 Choisir l'opération	
1 à 3 Rédaction des calculs	
1 à 3 Phrases et explications	
Exercice Travail Groupe	
Lire correctement les longueurs	
Faire les bons calculs	
Explications	







DS1

306 –

BACAR MOUSTADRANE Rakchat

-  Chercher _____  Maîtrise satisfaisante
-  Modéliser _____  Maîtrise fragile
-  Représenter _____  Maîtrise fragile
-  Calculer _____  Maîtrise fragile
-  Communiquer _____  Maîtrise satisfaisante











Exercice 1	
1 à 5 Retrouver les éléments sur le plan	
1 à 5 Lire et utiliser les informations du plan	
3 à 5 Calculer avec des longueurs	




Exercice 2	
1 à 3 Choisir l'opération	
1 à 3 Rédaction des calculs	
1 à 3 Phrases et explications	
Exercice Travail Groupe	
Lire correctement les longueurs	
Faire les bons calculs	
Explications	







DS1

306 –

BOINA Chadia

-  Chercher _____  Très bonne maîtrise
-  Modéliser _____  Très bonne maîtrise
-  Représenter _____  Maîtrise satisfaisante
-  Calculer _____  Maîtrise satisfaisante
-  Communiquer _____  Maîtrise satisfaisante











Exercice 1	
1 à 5 Retrouver les éléments sur le plan	
1 à 5 Lire et utiliser les informations du plan	
3 à 5 Calculer avec des longueurs	




Exercice 2	
1 à 3 Choisir l'opération	
1 à 3 Rédaction des calculs	
1 à 3 Phrases et explications	
Exercice Travail Groupe	
Lire correctement les longueurs	
Faire les bons calculs	
Explications	







DS1

306 –

CHANFI Fayçoil

-  Chercher _____  Maîtrise satisfaisante
-  Modéliser _____  Très bonne maîtrise
-  Représenter _____  Maîtrise satisfaisante
-  Calculer _____  Maîtrise fragile
-  Communiquer _____  Maîtrise satisfaisante











Exercice 1	
1 à 5 Retrouver les éléments sur le plan	
1 à 5 Lire et utiliser les informations du plan	
3 à 5 Calculer avec des longueurs	




Exercice 2	
1 à 3 Choisir l'opération	
1 à 3 Rédaction des calculs	
1 à 3 Phrases et explications	
Exercice Travail Groupe	
Lire correctement les longueurs	
Faire les bons calculs	
Explications	




DS1

306 –

CHARIF Djaël

-  Chercher _____  Très bonne maîtrise
-  Modéliser _____  Très bonne maîtrise
-  Représenter _____  Maîtrise satisfaisante
-  Calculer _____  Maîtrise satisfaisante
-  Communiquer _____  Très bonne maîtrise











Exercice 1	
1 à 5 Retrouver les éléments sur le plan	
1 à 5 Lire et utiliser les informations du plan	
3 à 5 Calculer avec des longueurs	




Exercice 2	
1 à 3 Choisir l'opération	
1 à 3 Rédaction des calculs	
1 à 3 Phrases et explications	




Exercice Travail Groupe	
Lire correctement les longueurs	
Faire les bons calculs	
Explications	




306 –

COMBO Doulka-rynaini

-  Chercher _____  Maîtrise satisfaisante
-  Modéliser _____  Très bonne maîtrise
-  Représenter _____  Maîtrise fragile
-  Calculer _____  Maîtrise fragile
-  Communiquer _____  Maîtrise satisfaisante











Exercice 1	
1 à 5 Retrouver les éléments sur le plan	
1 à 5 Lire et utiliser les informations du plan	
3 à 5 Calculer avec des longueurs	




Exercice 2	
1 à 3 Choisir l'opération	
1 à 3 Rédaction des calculs	
1 à 3 Phrases et explications	




Exercice Travail Groupe	
Lire correctement les longueurs	
Faire les bons calculs	
Explications	

306 –

MAGNELE Chamsidine

-  Chercher _____  Maîtrise satisfaisante
-  Modéliser _____  Très bonne maîtrise
-  Représenter _____  Maîtrise satisfaisante
-  Calculer _____  Maîtrise satisfaisante
-  Communiquer _____  Maîtrise satisfaisante

Exercice 1	
1 à 5 Retrouver les éléments sur le plan	
1 à 5 Lire et utiliser les informations du plan	
3 à 5 Calculer avec des longueurs	











Exercice 2	
1 à 3 Choisir l'opération	
1 à 3 Rédaction des calculs	
1 à 3 Phrases et explications	




Exercice Travail Groupe	
Lire correctement les longueurs	
Faire les bons calculs	
Explications	




DS1




306 –

MBAROUKOU Dania

-  Chercher _____  Très bonne maîtrise
-  Modéliser _____  Très bonne maîtrise
-  Représenter _____  Maîtrise satisfaisante
-  Calculer _____  Maîtrise satisfaisante
-  Communiquer _____  Maîtrise satisfaisante











Exercice 1	
1 à 5 Retrouver les éléments sur le plan	
1 à 5 Lire et utiliser les informations du plan	
3 à 5 Calculer avec des longueurs	




Exercice 2	
1 à 3 Choisir l'opération	
1 à 3 Rédaction des calculs	
1 à 3 Phrases et explications	







Exercice Travail Groupe	
Lire correctement les longueurs	
Faire les bons calculs	
Explications	

306 –

MIRADJI Issoufi

-  Chercher _____  Très bonne maîtrise
-  Modéliser _____  Très bonne maîtrise
-  Représenter _____  Maîtrise satisfaisante
-  Calculer _____  Maîtrise satisfaisante
-  Communiquer _____  Très bonne maîtrise











Exercice 1	
1 à 5 Retrouver les éléments sur le plan	
1 à 5 Lire et utiliser les informations du plan	
3 à 5 Calculer avec des longueurs	




Exercice 2	
1 à 3 Choisir l'opération	
1 à 3 Rédaction des calculs	
1 à 3 Phrases et explications	
Exercice Travail Groupe	
Lire correctement les longueurs	
Faire les bons calculs	
Explications	







DS1

306 –

NIDHOIMI El-fahar

-  Chercher _____  Très bonne maîtrise
-  Modéliser _____  Maîtrise satisfaisante
-  Représenter _____  Maîtrise satisfaisante
-  Calculer _____  Maîtrise satisfaisante
-  Communiquer _____  Maîtrise satisfaisante











Exercice 1	
1 à 5 Retrouver les éléments sur le plan	
1 à 5 Lire et utiliser les informations du plan	
3 à 5 Calculer avec des longueurs	




Exercice 2	
1 à 3 Choisir l'opération	
1 à 3 Rédaction des calculs	
1 à 3 Phrases et explications	
Exercice Travail Groupe	
Lire correctement les longueurs	
Faire les bons calculs	
Explications	







DS1

306 –

OUSSENI Fayadhui

-  Chercher _____  Maîtrise satisfaisante
-  Modéliser _____  Maîtrise satisfaisante
-  Représenter _____  Maîtrise satisfaisante
-  Calculer _____  Maîtrise fragile
-  Communiquer _____  Maîtrise fragile











Exercice 1	
1 à 5 Retrouver les éléments sur le plan	
1 à 5 Lire et utiliser les informations du plan	
3 à 5 Calculer avec des longueurs	




Exercice 2	
1 à 3 Choisir l'opération	
1 à 3 Rédaction des calculs	
1 à 3 Phrases et explications	
Exercice Travail Groupe	
Lire correctement les longueurs	
Faire les bons calculs	
Explications	







DS1

306 –

SAÏD Dalila

-  Chercher _____  Très bonne maîtrise
-  Modéliser _____  Très bonne maîtrise
-  Représenter _____  Maîtrise fragile
-  Calculer _____  Maîtrise satisfaisante
-  Communiquer _____  Maîtrise satisfaisante











Exercice 1	
1 à 5 Retrouver les éléments sur le plan	
1 à 5 Lire et utiliser les informations du plan	
3 à 5 Calculer avec des longueurs	




Exercice 2	
1 à 3 Choisir l'opération	
1 à 3 Rédaction des calculs	
1 à 3 Phrases et explications	
Exercice Travail Groupe	
Lire correctement les longueurs	
Faire les bons calculs	
Explications	







DS1

306 –

SAID OMAR Nadjoi











-  Chercher _____  Très bonne maîtrise
-  Modéliser _____  Très bonne maîtrise
-  Représenter _____  Maîtrise satisfaisante
-  Calculer _____  Maîtrise satisfaisante
-  Communiquer _____  Très bonne maîtrise




Exercice 1	
1 à 5 Retrouver les éléments sur le plan	
1 à 5 Lire et utiliser les informations du plan	
3 à 5 Calculer avec des longueurs	




Exercice 2	
1 à 3 Choisir l'opération	
1 à 3 Rédaction des calculs	
1 à 3 Phrases et explications	
Exercice Travail Groupe	
Lire correctement les longueurs	
Faire les bons calculs	
Explications	



306 –

TSIMPOU Zoubert

-  Chercher _____  Maîtrise fragile
-  Modéliser _____  Maîtrise insuffisante
-  Représenter _____  Maîtrise satisfaisante
-  Calculer _____  Maîtrise fragile
-  Communiquer _____  Maîtrise fragile

Exercice 1	
1 à 5 Retrouver les éléments sur le plan	
1 à 5 Lire et utiliser les informations du plan	
3 à 5 Calculer avec des longueurs	

Exercice 2	
1 à 3 Choisir l'opération	
1 à 3 Rédaction des calculs	
1 à 3 Phrases et explications	

Exercice Travail Groupe	
Lire correctement les longueurs	
Faire les bons calculs	
Explications	