

601 –









Liste des élèves absents







- ANSOYA OILI Naida
- BACO Raissa







Élèves	Mod	Cher	Rep	Rai	Cal	Com	Con
ABDALLAH Laetitia							
ABDALLAH Lina							
ABDILLAH Naib							
ABDOU AHMED Zaher							
ABDOU Samima							
ABOUTOIH Nasra							
AHAMADI SAID Aynoudine							
AHMED Rayna							
AKIDACHI Youssouf							
ALAWI Naim							
ALI Estein							
ALLAOUI Nissouoiti							
ANDHUME OUSSENI Any							
ANDRE DICK Arson							
ANLI Aboubacar							
ATTOUMANE SAID Onzaïrati							
ATTOUMANI OUSSENI Arlette							
CHARAFOU Bahati							
CHARF-EDDINE Iyane							
DAOU Ismaël							
HALIFA El -enrif							
HAMADA Nadjima-sophie							
HOUMADI Zahara							
IBRAHIM Nasser							









601 –







ABDALLAH Laetitia

-  Chercher _____  Maîtrise insuffisante
-  Représenter _____  Maîtrise fragile
-  Calculer _____  Maîtrise fragile
-  Communiquer _____  Maîtrise fragile

Exercice 1 - Angles et droites	
 1 Donner un nom aux sommets	
 1 Reconnaître angle	
 2 Tracer la parallèle	









Exercice 2 - Poids de beredjes	
 1 Poids d'un beredjes	
 1 Les autres poids	
 2 Phrase	







Exercice 3 - Aire et périmètre	
 1 Nom de l'unité d'aire	
 2 Calcul du périmètre	
 2 Calcul de l'aire	
 3 Longueur de la cloture	







Exercice 4 - Course à vélo	
 1 Lire distance	
 2 Lire l'heure	
 3 Temps total	









601 –







ABDALLAH Lina

-  Chercher _____  Maîtrise fragile
-  Représenter _____  Maîtrise satisfaisante
-  Calculer _____  Maîtrise fragile
-  Communiquer _____  Maîtrise satisfaisante

Exercice 1 - Angles et droites	
 1 Donner une nom aux sommets	
 1 Reconnaître angle	
 2 Tracer la parallèle	









Exercice 2 - Poids de beredjes	
 1 Poids d'un beredjes	
 1 Les autres poids	
 2 Phrase	







Exercice 3 - Aire et périmètre	
 1 Nom de l'unité d'aire	
 2 Calcul du périmètre	
 2 Calcul de l'aire	
 3 Longueur de la cloture	







Exercice 4 - Course à vélo	
 1 Lire distance	
 2 Lire l'heure	
 3 Temps total	









601 –







ABDILLAH Naib

-  Chercher _____  Maîtrise satisfaisante
-  Représenter _____  Maîtrise fragile
-  Calculer _____  Maîtrise insuffisante
-  Communiquer _____  Maîtrise insuffisante

Exercice 1 - Angles et droites	
 1 Donner un nom aux sommets	
 1 Reconnaître angle	
 2 Tracer la parallèle	









Exercice 2 - Poids de beredjes	
 1 Poids d'un beredjes	
 1 Les autres poids	
 2 Phrase	







Exercice 3 - Aire et périmètre	
 1 Nom de l'unité d'aire	
 2 Calcul du périmètre	
 2 Calcul de l'aire	
 3 Longueur de la cloture	







Exercice 4 - Course à vélo	
 1 Lire distance	
 2 Lire l'heure	
 3 Temps total	









601 –







ABDOU AHMED Zaher

-  Chercher _____  Maîtrise satisfaisante
-  Représenter _____  Maîtrise satisfaisante
-  Calculer _____  Maîtrise satisfaisante
-  Communiquer _____  Maîtrise fragile

Exercice 1 - Angles et droites	
 1 Donner un nom aux sommets	
 1 Reconnaître angle	
 2 Tracer la parallèle	









Exercice 2 - Poids de beredjes	
 1 Poids d'un beredjes	
 1 Les autres poids	
 2 Phrase	







Exercice 3 - Aire et périmètre	
 1 Nom de l'unité d'aire	
 2 Calcul du périmètre	
 2 Calcul de l'aire	
 3 Longueur de la cloture	







Exercice 4 - Course à vélo	
 1 Lire distance	
 2 Lire l'heure	
 3 Temps total	









601 –







ABDOU Samima

-  Chercher _____  Maîtrise satisfaisante
-  Représenter _____  Maîtrise satisfaisante
-  Calculer _____  Maîtrise fragile
-  Communiquer _____  Maîtrise fragile

Exercice 1 - Angles et droites	
 1 Donner un nom aux sommets	
 1 Reconnaître angle	
 2 Tracer la parallèle	









Exercice 2 - Poids de beredjes	
 1 Poids d'un beredjes	
 1 Les autres poids	
 2 Phrase	







Exercice 3 - Aire et périmètre	
 1 Nom de l'unité d'aire	
 2 Calcul du périmètre	
 2 Calcul de l'aire	
 3 Longueur de la cloture	







Exercice 4 - Course à vélo	
 1 Lire distance	
 2 Lire l'heure	
 3 Temps total	









601 –







ABOUTOIH Nasra

-  Chercher _____  Maîtrise satisfaisante
-  Représenter _____  Très bonne maîtrise
-  Calculer _____  Très bonne maîtrise
-  Communiquer _____  Très bonne maîtrise

Exercice 1 - Angles et droites	
 1 Donner un nom aux sommets	
 1 Reconnaître angle	
 2 Tracer la parallèle	









Exercice 2 - Poids de beredjes	
 1 Poids d'un beredjes	
 1 Les autres poids	
 2 Phrase	







Exercice 3 - Aire et périmètre	
 1 Nom de l'unité d'aire	
 2 Calcul du périmètre	
 2 Calcul de l'aire	
 3 Longueur de la cloture	







Exercice 4 - Course à vélo	
 1 Lire distance	
 2 Lire l'heure	
 3 Temps total	









601 –







AHAMADI SAID Aynoudine

-  Chercher _____  Très bonne maîtrise
-  Représenter _____  Maîtrise satisfaisante
-  Calculer _____  Maîtrise fragile
-  Communiquer _____  Maîtrise insuffisante

Exercice 1 - Angles et droites	
 1 Donner une nom aux sommets	
 1 Reconnaître angle	
 2 Tracer la parallèle	









Exercice 2 - Poids de beredjes	
 1 Poids d'un beredjes	
 1 Les autres poids	
 2 Phrase	







Exercice 3 - Aire et périmètre	
 1 Nom de l'unité d'aire	
 2 Calcul du périmètre	
 2 Calcul de l'aire	
 3 Longueur de la cloture	







Exercice 4 - Course à vélo	
 1 Lire distance	
 2 Lire l'heure	
 3 Temps total	









601 –







AHMED Rayna

-  Chercher _____  Maîtrise satisfaisante
-  Représenter _____  Maîtrise satisfaisante
-  Calculer _____  Maîtrise satisfaisante
-  Communiquer _____  Maîtrise fragile

Exercice 1 - Angles et droites	
 1 Donner un nom aux sommets	
 1 Reconnaître angle	
 2 Tracer la parallèle	









Exercice 2 - Poids de beredjes	
 1 Poids d'un beredjes	
 1 Les autres poids	
 2 Phrase	







Exercice 3 - Aire et périmètre	
 1 Nom de l'unité d'aire	
 2 Calcul du périmètre	
 2 Calcul de l'aire	
 3 Longueur de la cloture	







Exercice 4 - Course à vélo	
 1 Lire distance	
 2 Lire l'heure	
 3 Temps total	









601 –







AKIDACHI Youssouf

-  Chercher _____  Très bonne maîtrise
-  Représenter _____  Maîtrise satisfaisante
-  Calculer _____  Maîtrise satisfaisante
-  Communiquer _____  Très bonne maîtrise

Exercice 1 - Angles et droites	
 1 Donner un nom aux sommets	
 1 Reconnaître angle	
 2 Tracer la parallèle	









Exercice 2 - Poids de beredjes	
 1 Poids d'un beredjes	
 1 Les autres poids	
 2 Phrase	







Exercice 3 - Aire et périmètre	
 1 Nom de l'unité d'aire	
 2 Calcul du périmètre	
 2 Calcul de l'aire	
 3 Longueur de la cloture	







Exercice 4 - Course à vélo	
 1 Lire distance	
 2 Lire l'heure	
 3 Temps total	









601 –







ALAWI Naim

-  Chercher _____  Maîtrise satisfaisante
-  Représenter _____  Maîtrise insuffisante
-  Calculer _____  Maîtrise insuffisante
-  Communiquer _____  Maîtrise insuffisante

Exercice 1 - Angles et droites	
 1 Donner un nom aux sommets	
 1 Reconnaître angle	
 2 Tracer la parallèle	









Exercice 2 - Poids de beredjes	
 1 Poids d'un beredjes	
 1 Les autres poids	
 2 Phrase	







Exercice 3 - Aire et périmètre	
 1 Nom de l'unité d'aire	
 2 Calcul du périmètre	
 2 Calcul de l'aire	
 3 Longueur de la cloture	







Exercice 4 - Course à vélo	
 1 Lire distance	
 2 Lire l'heure	
 3 Temps total	









601 –







ALI Estein

-  Chercher _____  Très bonne maîtrise
-  Représenter _____  Maîtrise satisfaisante
-  Calculer _____  Très bonne maîtrise
-  Communiquer _____  Très bonne maîtrise

Exercice 1 - Angles et droites	
 1 Donner un nom aux sommets	
 1 Reconnaître angle	
 2 Tracer la parallèle	








Exercice 2 - Poids de beredjes	
 1 Poids d'un beredjes	
 1 Les autres poids	
 2 Phrase	







Exercice 3 - Aire et périmètre	
 1 Nom de l'unité d'aire	
 2 Calcul du périmètre	
 2 Calcul de l'aire	
 3 Longueur de la cloture	





Exercice 4 - Course à vélo	
 1 Lire distance	
 2 Lire l'heure	
 3 Temps total	







601 –







ALLAOUI Nissouoiti

-  Chercher _____  Maîtrise insuffisante
-  Représenter _____  Maîtrise satisfaisante
- $\begin{matrix} 0100 \\ 0011 \\ 1001 \end{matrix}$ Calculer _____  Maîtrise fragile
-  Communiquer _____  Maîtrise fragile

Exercice 1 - Angles et droites	
 1 Donner une nom aux sommets	
 1 Reconnaître angle	
 2 Tracer la parallèle	









Exercice 2 - Poids de beredjes	
$\begin{matrix} 0100 \\ 0011 \\ 1001 \end{matrix}$ 1 Poids d'un beredjes	
$\begin{matrix} 0100 \\ 0011 \\ 1001 \end{matrix}$ 1 Les autres poids	
 2 Phrase	







Exercice 3 - Aire et périmètre	
 1 Nom de l'unité d'aire	
$\begin{matrix} 0100 \\ 0011 \\ 1001 \end{matrix}$ 2 Calcul du périmètre	
$\begin{matrix} 0100 \\ 0011 \\ 1001 \end{matrix}$ 2 Calcul de l'aire	
 3 Longueur de la cloture	







Exercice 4 - Course à vélo	
 1 Lire distance	
 2 Lire l'heure	
 3 Temps total	









601 –







ANDHUME OUSSENI Any

-  Chercher _____  Très bonne maîtrise
-  Représenter _____  Maîtrise satisfaisante
-  0100
0011
1001 Calculer _____  Très bonne maîtrise
-  Communiquer _____  Très bonne maîtrise

Exercice 1 - Angles et droites	
 1 Donner un nom aux sommets	
 1 Reconnaître angle	
 2 Tracer la parallèle	








Exercice 2 - Poids de beredjes	
 0100 0011 1001 1 Poids d'un beredjes	
 0100 0011 1001 1 Les autres poids	
 2 Phrase	







Exercice 3 - Aire et périmètre	
 1 Nom de l'unité d'aire	
 0100 0011 1001 2 Calcul du périmètre	
 0100 0011 1001 2 Calcul de l'aire	
 3 Longueur de la cloture	





Exercice 4 - Course à vélo	
 1 Lire distance	
 2 Lire l'heure	
 3 Temps total	







601 –







ANDRE DICK Arson

-  Chercher _____  Maîtrise fragile
-  Représenter _____  Maîtrise fragile
- $\begin{matrix} 0100 \\ 0011 \\ 1001 \end{matrix}$ Calculer _____  Maîtrise fragile
-  Communiquer _____  Maîtrise insuffisante

Exercice 1 - Angles et droites	
 1 Donner une nom aux sommets 	
 1 Reconnaître angle 	
 2 Tracer la parallèle 	









Exercice 2 - Poids de beredjes	
$\begin{matrix} 0100 \\ 0011 \\ 1001 \end{matrix}$ 1 Poids d'un beredjes 	
$\begin{matrix} 0100 \\ 0011 \\ 1001 \end{matrix}$ 1 Les autres poids 	
 2 Phrase 	







Exercice 3 - Aire et périmètre	
 1 Nom de l'unité d'aire 	
$\begin{matrix} 0100 \\ 0011 \\ 1001 \end{matrix}$ 2 Calcul du périmètre 	
$\begin{matrix} 0100 \\ 0011 \\ 1001 \end{matrix}$ 2 Calcul de l'aire 	
 3 Longueur de la cloture 	







Exercice 4 - Course à vélo	
 1 Lire distance 	
 2 Lire l'heure 	
 3 Temps total 	









601 –







ANLI Aboubacar

-  Chercher _____  Maîtrise satisfaisante
-  Représenter _____  Maîtrise satisfaisante
-  Calculer _____  Maîtrise insuffisante
-  Communiquer _____  Maîtrise insuffisante

Exercice 1 - Angles et droites	
 1 Donner un nom aux sommets	
 1 Reconnaître angle	
 2 Tracer la parallèle	









Exercice 2 - Poids de beredjes	
 1 Poids d'un beredjes	
 1 Les autres poids	
 2 Phrase	







Exercice 3 - Aire et périmètre	
 1 Nom de l'unité d'aire	
 2 Calcul du périmètre	
 2 Calcul de l'aire	
 3 Longueur de la cloture	







Exercice 4 - Course à vélo	
 1 Lire distance	
 2 Lire l'heure	
 3 Temps total	









601 –







ATTOUMANE SAID Onzairati

-  Chercher _____  Maîtrise fragile
-  Représenter _____  Maîtrise satisfaisante
-  Calculer _____  Maîtrise insuffisante
-  Communiquer _____  Maîtrise insuffisante

Exercice 1 - Angles et droites	
 1 Donner un nom aux sommets	
 1 Reconnaître angle	
 2 Tracer la parallèle	









Exercice 2 - Poids de beredjes	
 1 Poids d'un beredjes	
 1 Les autres poids	
 2 Phrase	







Exercice 3 - Aire et périmètre	
 1 Nom de l'unité d'aire	
 2 Calcul du périmètre	
 2 Calcul de l'aire	
 3 Longueur de la cloture	







Exercice 4 - Course à vélo	
 1 Lire distance	
 2 Lire l'heure	
 3 Temps total	









601 –







ATTOUMANI OUSSENI Arlette

-  Chercher _____  Maîtrise fragile
-  Représenter _____  Maîtrise satisfaisante
-  Calculer _____  Maîtrise satisfaisante
-  Communiquer _____  Maîtrise fragile

Exercice 1 - Angles et droites	
 1 Donner un nom aux sommets	
 1 Reconnaître angle	
 2 Tracer la parallèle	









Exercice 2 - Poids de beredjes	
 1 Poids d'un beredjes	
 1 Les autres poids	
 2 Phrase	







Exercice 3 - Aire et périmètre	
 1 Nom de l'unité d'aire	
 2 Calcul du périmètre	
 2 Calcul de l'aire	
 3 Longueur de la cloture	







Exercice 4 - Course à vélo	
 1 Lire distance	
 2 Lire l'heure	
 3 Temps total	









601 –







CHARAFOU Bahati

-  Chercher _____  Très bonne maîtrise
-  Représenter _____  Maîtrise fragile
-  Calculer _____  Maîtrise satisfaisante
-  Communiquer _____  Maîtrise insuffisante

Exercice 1 - Angles et droites	
 1 Donner un nom aux sommets	
 1 Reconnaître angle	
 2 Tracer la parallèle	









Exercice 2 - Poids de beredjes	
 1 Poids d'un beredjes	
 1 Les autres poids	
 2 Phrase	







Exercice 3 - Aire et périmètre	
 1 Nom de l'unité d'aire	
 2 Calcul du périmètre	
 2 Calcul de l'aire	
 3 Longueur de la cloture	







Exercice 4 - Course à vélo	
 1 Lire distance	
 2 Lire l'heure	
 3 Temps total	









601 –







CHARF-EDDINE Iyane

-  Chercher _____  Maîtrise fragile
-  Représenter _____  Maîtrise fragile
-  Calculer _____  Maîtrise satisfaisante
-  Communiquer _____  Très bonne maîtrise

Exercice 1 - Angles et droites	
 1 Donner une nom aux sommets	
 1 Reconnaître angle	
 2 Tracer la parallèle	









Exercice 2 - Poids de beredjes	
 1 Poids d'un beredjes	
 1 Les autres poids	
 2 Phrase	







Exercice 3 - Aire et périmètre	
 1 Nom de l'unité d'aire	
 2 Calcul du périmètre	
 2 Calcul de l'aire	
 3 Longueur de la cloture	







Exercice 4 - Course à vélo	
 1 Lire distance	
 2 Lire l'heure	
 3 Temps total	









601 –







DAOU Ismaël

-  Chercher _____  Très bonne maîtrise
-  Représenter _____  Maîtrise satisfaisante
-  Calculer _____  Très bonne maîtrise
-  Communiquer _____  Très bonne maîtrise

Exercice 1 - Angles et droites	
 1 Donner un nom aux sommets	
 1 Reconnaître angle	
 2 Tracer la parallèle	









Exercice 2 - Poids de beredjes	
 1 Poids d'un beredjes	
 1 Les autres poids	
 2 Phrase	







Exercice 3 - Aire et périmètre	
 1 Nom de l'unité d'aire	
 2 Calcul du périmètre	
 2 Calcul de l'aire	
 3 Longueur de la cloture	







Exercice 4 - Course à vélo	
 1 Lire distance	
 2 Lire l'heure	
 3 Temps total	









601 –







HALIFA El -enrif

-  Chercher _____  Maîtrise satisfaisante
-  Représenter _____  Maîtrise satisfaisante
-  Calculer _____  Maîtrise fragile
-  Communiquer _____  Maîtrise insuffisante

Exercice 1 - Angles et droites	
 1 Donner une nom aux sommets	
 1 Reconnaître angle	
 2 Tracer la parallèle	









Exercice 2 - Poids de beredjes	
 1 Poids d'un beredjes	
 1 Les autres poids	
 2 Phrase	







Exercice 3 - Aire et périmètre	
 1 Nom de l'unité d'aire	
 2 Calcul du périmètre	
 2 Calcul de l'aire	
 3 Longueur de la cloture	





Exercice 4 - Course à vélo	
 1 Lire distance	
 2 Lire l'heure	
 3 Temps total	







601 –







HAMADA Nadjima-sophie

-  Chercher _____  Maîtrise satisfaisante
-  Représenter _____  Maîtrise fragile
-  0100
0011
1001 Calculer _____  Maîtrise insuffisante
-  Communiquer _____  Maîtrise fragile

Exercice 1 - Angles et droites	
 1 Donner une nom aux sommets	
 1 Reconnaître angle	
 2 Tracer la parallèle	









Exercice 2 - Poids de beredjes	
0100 0011 1001 1 Poids d'un beredjes	
0100 0011 1001 1 Les autres poids	
 2 Phrase	







Exercice 3 - Aire et périmètre	
 1 Nom de l'unité d'aire	
0100 0011 1001 2 Calcul du périmètre	
0100 0011 1001 2 Calcul de l'aire	
 3 Longueur de la cloture	







Exercice 4 - Course à vélo	
 1 Lire distance	
 2 Lire l'heure	
 3 Temps total	









601 –







HOUMADI Zahara

-  Chercher _____  Maîtrise fragile
-  Représenter _____  Maîtrise fragile
-  0100
0011
1001 Calculer _____  Maîtrise insuffisante
-  Communiquer _____  Maîtrise insuffisante

Exercice 1 - Angles et droites	
 1 Donner un nom aux sommets	
 1 Reconnaître angle	
 2 Tracer la parallèle	









Exercice 2 - Poids de beredjes	
 0100 0011 1001 1 Poids d'un beredjes	
 0100 0011 1001 1 Les autres poids	
 2 Phrase	







Exercice 3 - Aire et périmètre	
 1 Nom de l'unité d'aire	
 0100 0011 1001 2 Calcul du périmètre	
 0100 0011 1001 2 Calcul de l'aire	
 3 Longueur de la cloture	







Exercice 4 - Course à vélo	
 1 Lire distance	
 2 Lire l'heure	
 3 Temps total	









601 –






IBRAHIM Nasser

-  Chercher _____  Maîtrise fragile
-  Représenter _____  Maîtrise insuffisante
-  Calculer _____  Maîtrise fragile
-  Communiquer _____  Maîtrise insuffisante

Exercice 1 - Angles et droites	
 1 Donner une nom aux sommets	
 1 Reconnaître angle	
 2 Tracer la parallèle	

Exercice 2 - Poids de beredjes	
 1 Poids d'un beredjes	
 1 Les autres poids	
 2 Phrase	

Exercice 3 - Aire et périmètre	
 1 Nom de l'unité d'aire	
 2 Calcul du périmètre	
 2 Calcul de l'aire	
 3 Longueur de la cloture	

Exercice 4 - Course à vélo	
 1 Lire distance	
 2 Lire l'heure	
 3 Temps total	