





DS1

601 –

Compétences évaluées

-  Représenter
-  Chercher
-  Communiquer
-  Calculer

competence fullname	level			
	Cher	Rep	Cal	Com
ABDALLAH Laetitia				
ABDALLAH Lina				
ABDILLAH Naib				
ABDOU AHMED Zaher				
ABDOU Samima				
ABOUTOIH Nasra				
AHAMADI SAID Aynoudine				
AHMED Rayna				
AKIDACHI Youssouf				
ALAWI Naim				









Continued on next page






competence fullname	level			
	Cher	Rep	Cal	Com
ALI Estein				
ALLAOUI Nissouoiti				
ANDHUME OUSSENI Any				
ANDRE DICK Arson				
ANLI Aboubacar				
ATTOUMANE SAID Onzaïrati				
ATTOUMANI OUSSENI Arlette				
BACO Raissa				
CHARAFOU Bahati				
CHARF-EDDINE Iyane				
DAOU Ismaël				
HALIFA El -enrif				
HAMADA Nadjima-sophie				
HOUMADI Zahara				
IBRAHIM Nasser				




DS1

601 –

ABDALLAH Laetitia

-  Chercher _____  Maîtrise satisfaisante
-  Représenter _____  Maîtrise fragile
-  Calculer _____  Maîtrise satisfaisante
-  Communiquer _____  Maîtrise fragile









Exercice 1	
1 Nombres Shadocks	
2 Nombres préhistoriques	
3 Nombres actuels	
Exercice 2	
Le bon chemin	
Rédaction et explications	






Exercice 3	
1 et 2 Choix de l'opération	
1 et 2 Calculs	
1 et 2 Phrases	




DS1

601 –

ABDALLAH Lina

-  Chercher _____  Maîtrise satisfaisante
-  Représenter _____  Maîtrise satisfaisante
-  Calculer _____  Maîtrise satisfaisante
-  Communiquer _____  Maîtrise satisfaisante









Exercice 1	
1 Nombres Shadocks	
2 Nombres préhistoriques	
3 Nombres actuels	
Exercice 2	
Le bon chemin	
Rédaction et explications	






Exercice 3	
1 et 2 Choix de l'opération	
1 et 2 Calculs	
1 et 2 Phrases	




DS1

601 –

ABDILLAH Naib

-  Chercher _____  Maîtrise satisfaisante
-  Représenter _____  Maîtrise satisfaisante
-  Calculer _____  Très bonne maîtrise
-  Communiquer _____  Maîtrise satisfaisante









Exercice 1	
1 Nombres Shadocks	
2 Nombres préhistoriques	
3 Nombres actuels	
Exercice 2	
Le bon chemin	
Rédaction et explications	






Exercice 3	
1 et 2 Choix de l'opération	
1 et 2 Calculs	
1 et 2 Phrases	




DS1

601 –

ABDOU AHMED Zaher

-  Chercher _____  Très bonne maîtrise
-  Représenter _____  Maîtrise satisfaisante
-  Calculer _____  Très bonne maîtrise
-  Communiquer _____  Très bonne maîtrise









Exercice 1	
1 Nombres Shadocks	
2 Nombres préhistoriques	
3 Nombres actuels	
Exercice 2	
Le bon chemin	
Rédaction et explications	






Exercice 3	
1 et 2 Choix de l'opération	
1 et 2 Calculs	
1 et 2 Phrases	




DS1

601 –

ABDOU Samima

-  Chercher _____  Très bonne maîtrise
-  Représenter _____  Maîtrise fragile
-  Calculer _____  Maîtrise insuffisante
-  Communiquer _____  Très bonne maîtrise









Exercice 1	
1 Nombres Shadocks	
2 Nombres préhistoriques	
3 Nombres actuels	
Exercice 2	
Le bon chemin	
Rédaction et explications	






Exercice 3	
1 et 2 Choix de l'opération	
1 et 2 Calculs	
1 et 2 Phrases	




DS1

601 –

ABOUTOIH Nasra

-  Chercher _____  Maîtrise insuffisante
-  Représenter _____  Maîtrise satisfaisante
-  Calculer _____  Très bonne maîtrise
-  Communiquer _____  Maîtrise satisfaisante









Exercice 1	
1 Nombres Shadocks	
2 Nombres préhistoriques	
3 Nombres actuels	
Exercice 2	
Le bon chemin	
Rédaction et explications	






Exercice 3	
1 et 2 Choix de l'opération	
1 et 2 Calculs	
1 et 2 Phrases	




DS1

601 –

AHAMADI SAID Aynoudine

-  Chercher _____  Très bonne maîtrise
-  Représenter _____  Maîtrise satisfaisante
-  Calculer _____  Très bonne maîtrise
-  Communiquer _____  Très bonne maîtrise









Exercice 1	
1 Nombres Shadocks	
2 Nombres préhistoriques	
3 Nombres actuels	
Exercice 2	
Le bon chemin	
Rédaction et explications	






Exercice 3	
1 et 2 Choix de l'opération	
1 et 2 Calculs	
1 et 2 Phrases	




DS1

601 –

AHMED Rayna

-  Chercher _____  Maîtrise satisfaisante
-  Représenter _____  Maîtrise satisfaisante
-  Calculer _____  Maîtrise fragile
-  Communiquer _____  Maîtrise fragile









Exercice 1	
1 Nombres Shadocks	
2 Nombres préhistoriques	
3 Nombres actuels	
Exercice 2	
Le bon chemin	
Rédaction et explications	






Exercice 3	
1 et 2 Choix de l'opération	
1 et 2 Calculs	
1 et 2 Phrases	




DS1

601 –

AKIDACHI Youssouf

-  Chercher _____  Maîtrise satisfaisante
-  Représenter _____  Maîtrise satisfaisante
-  Calculer _____  Très bonne maîtrise
-  Communiquer _____  Maîtrise satisfaisante









Exercice 1	
1 Nombres Shadocks	
2 Nombres préhistoriques	
3 Nombres actuels	
Exercice 2	
Le bon chemin	
Rédaction et explications	






Exercice 3	
1 et 2 Choix de l'opération	
1 et 2 Calculs	
1 et 2 Phrases	




DS1

601 –

ALAWI Naim

-  Chercher _____  Maîtrise insuffisante
-  Représenter _____  Maîtrise satisfaisante
-  Calculer _____  Très bonne maîtrise
-  Communiquer _____  Maîtrise satisfaisante









Exercice 1	
1 Nombres Shadocks	
2 Nombres préhistoriques	
3 Nombres actuels	
Exercice 2	
Le bon chemin	
Rédaction et explications	






Exercice 3	
1 et 2 Choix de l'opération	
1 et 2 Calculs	
1 et 2 Phrases	




DS1

601 –

ALI Estein

-  Chercher _____  Très bonne maîtrise
-  Représenter _____  Très bonne maîtrise
-  Calculer _____  Très bonne maîtrise
-  Communiquer _____  Très bonne maîtrise









Exercice 1	
1 Nombres Shadocks	
2 Nombres préhistoriques	
3 Nombres actuels	
Exercice 2	
Le bon chemin	
Rédaction et explications	






Exercice 3	
1 et 2 Choix de l'opération	
1 et 2 Calculs	
1 et 2 Phrases	




DS1

601 –

ALLAOUI Nissouoiti

-  Chercher _____  Maîtrise insuffisante
-  Représenter _____  Maîtrise satisfaisante
-  Calculer _____  Maîtrise insuffisante
-  Communiquer _____  Maîtrise fragile









Exercice 1	
1 Nombres Shadocks	
2 Nombres préhistoriques	
3 Nombres actuels	
Exercice 2	
Le bon chemin	
Rédaction et explications	






Exercice 3	
1 et 2 Choix de l'opération	
1 et 2 Calculs	
1 et 2 Phrases	




DS1

601 –

ANDHUME OUSSENI Any

-  Chercher _____  Maîtrise satisfaisante
-  Représenter _____  Maîtrise satisfaisante
-  Calculer _____  Maîtrise insuffisante
-  Communiquer _____  Très bonne maîtrise









Exercice 1	
1 Nombres Shadocks	
2 Nombres préhistoriques	
3 Nombres actuels	
Exercice 2	
Le bon chemin	
Rédaction et explications	






Exercice 3	
1 et 2 Choix de l'opération	
1 et 2 Calculs	
1 et 2 Phrases	




DS1

601 –

ANDRE DICK Arson

-  Chercher _____  Maîtrise insuffisante
-  Représenter _____  Maîtrise satisfaisante
-  Calculer _____  Maîtrise insuffisante
-  Communiquer _____  Maîtrise satisfaisante









Exercice 1	
1 Nombres Shadocks	
2 Nombres préhistoriques	
3 Nombres actuels	
Exercice 2	
Le bon chemin	
Rédaction et explications	






Exercice 3	
1 et 2 Choix de l'opération	
1 et 2 Calculs	
1 et 2 Phrases	




DS1

601 –

ANLI Aboubacar

-  Chercher _____  Maîtrise satisfaisante
-  Représenter _____  Maîtrise satisfaisante
-  Calculer _____  Très bonne maîtrise
-  Communiquer _____  Très bonne maîtrise









Exercice 1	
1 Nombres Shadocks	
2 Nombres préhistoriques	
3 Nombres actuels	
Exercice 2	
Le bon chemin	
Rédaction et explications	






Exercice 3	
1 et 2 Choix de l'opération	
1 et 2 Calculs	
1 et 2 Phrases	




DS1

601 –

ATTOUMANE SAID Onzairati

-  Chercher _____  Maîtrise insuffisante
-  Représenter _____  Maîtrise satisfaisante
-  Calculer _____  Très bonne maîtrise
-  Communiquer _____  Maîtrise satisfaisante









Exercice 1	
1 Nombres Shadocks	
2 Nombres préhistoriques	
3 Nombres actuels	
Exercice 2	
Le bon chemin	
Rédaction et explications	






Exercice 3	
1 et 2 Choix de l'opération	
1 et 2 Calculs	
1 et 2 Phrases	




DS1

601 –

ATTOUMANI OUSSENI Arlette

-  Chercher _____  Très bonne maîtrise
-  Représenter _____  Maîtrise insuffisante
-  Calculer _____  Maîtrise insuffisante
-  Communiquer _____  Maîtrise fragile









Exercice 1	
1 Nombres Shadocks	
2 Nombres préhistoriques	
3 Nombres actuels	
Exercice 2	
Le bon chemin	
Rédaction et explications	






Exercice 3	
1 et 2 Choix de l'opération	
1 et 2 Calculs	
1 et 2 Phrases	




DS1

601 –

BACO Raissa

-  Chercher _____  Maîtrise insuffisante
-  Représenter _____  Maîtrise satisfaisante
-  Calculer _____  Maîtrise satisfaisante
-  Communiquer _____  Maîtrise fragile









Exercice 1	
1 Nombres Shadocks	
2 Nombres préhistoriques	
3 Nombres actuels	
Exercice 2	
Le bon chemin	
Rédaction et explications	






Exercice 3	
1 et 2 Choix de l'opération	
1 et 2 Calculs	
1 et 2 Phrases	




DS1

601 –

CHARAFOU Bahati

-  Chercher _____  Maîtrise fragile
-  Représenter _____  Maîtrise satisfaisante
-  Calculer _____  Maîtrise insuffisante
-  Communiquer _____  Très bonne maîtrise









Exercice 1	
1 Nombres Shadocks	
2 Nombres préhistoriques	
3 Nombres actuels	
Exercice 2	
Le bon chemin	
Rédaction et explications	






Exercice 3	
1 et 2 Choix de l'opération	
1 et 2 Calculs	
1 et 2 Phrases	




DS1

601 –

CHARF-EDDINE Iyane

-  Chercher _____  Maîtrise insuffisante
-  Représenter _____  Maîtrise fragile
-  Calculer _____  Très bonne maîtrise
-  Communiquer _____  Maîtrise fragile









Exercice 1	
1 Nombres Shadocks	
2 Nombres préhistoriques	
3 Nombres actuels	
Exercice 2	
Le bon chemin	
Rédaction et explications	






Exercice 3	
1 et 2 Choix de l'opération	
1 et 2 Calculs	
1 et 2 Phrases	




DS1

601 –

DAOU Ismaël

-  Chercher _____  Très bonne maîtrise
-  Représenter _____  Maîtrise satisfaisante
-  Calculer _____  Maîtrise insuffisante
-  Communiquer _____  Maîtrise satisfaisante









Exercice 1	
1 Nombres Shadocks	
2 Nombres préhistoriques	
3 Nombres actuels	
Exercice 2	
Le bon chemin	
Rédaction et explications	






Exercice 3	
1 et 2 Choix de l'opération	
1 et 2 Calculs	
1 et 2 Phrases	




DS1

601 –

HALIFA El -enrif

-  Chercher _____  Très bonne maîtrise
-  Représenter _____  Maîtrise fragile
-  Calculer _____  Maîtrise insuffisante
-  Communiquer _____  Maîtrise satisfaisante









Exercice 1	
1 Nombres Shadocks	
2 Nombres préhistoriques	
3 Nombres actuels	
Exercice 2	
Le bon chemin	
Rédaction et explications	






Exercice 3	
1 et 2 Choix de l'opération	
1 et 2 Calculs	
1 et 2 Phrases	




DS1

601 –

HAMADA Nadjima-sophie

-  Chercher _____  Maîtrise satisfaisante
-  Représenter _____  Maîtrise fragile
-  Calculer _____  Très bonne maîtrise
-  Communiquer _____  Maîtrise fragile









Exercice 1	
1 Nombres Shadocks	
2 Nombres préhistoriques	
3 Nombres actuels	
Exercice 2	
Le bon chemin	
Rédaction et explications	






Exercice 3	
1 et 2 Choix de l'opération	
1 et 2 Calculs	
1 et 2 Phrases	




DS1

601 –

HOU MADI Zahara

-  Chercher _____  Maîtrise fragile
-  Représenter _____  Maîtrise fragile
-  Calculer _____  Maîtrise satisfaisante
-  Communiquer _____  Maîtrise fragile









Exercice 1	
1 Nombres Shadocks	
2 Nombres préhistoriques	
3 Nombres actuels	
Exercice 2	
Le bon chemin	
Rédaction et explications	






Exercice 3	
1 et 2 Choix de l'opération	
1 et 2 Calculs	
1 et 2 Phrases	



DS1

601 –

IBRAHIM Nasser

-  Chercher _____  Maîtrise satisfaisante
-  Représenter _____  Maîtrise satisfaisante
-  Calculer _____  Très bonne maîtrise
-  Communiquer _____  Maîtrise satisfaisante

Exercice 1	
1 Nombres Shadocks	
2 Nombres préhistoriques	
3 Nombres actuels	
Exercice 2	
Le bon chemin	
Rédaction et explications	

Exercice 3	
1 et 2 Choix de l'opération	
1 et 2 Calculs	
1 et 2 Phrases	