













































## 601 –

### Compétences évaluées

-  Représenter
-  Raisonner
-  Communiquer
-  Calculer









competence fullname	level			
	Rep	Rai	Cal	Com
ABDALLAH Laetitia				
ABDALLAH Lina				
ABDOU AHMED Zaher				
ABDOU Samima				
ABOUTOIH Nasra				
AHAMADI SAID Aynoudine				
AHMED Rayna				
AKIDACHI Youssouf				
ALAWI Naim				
ALI Estein				




Continued on next page



competence	level			
	Rep	Rai	Cal	Com
fullname				
ALLAOUI Nissouiti				
ANDHUME OUSSENI Any				
ANDRE DICK Arson				
ANLI Aboubacar				
ATTOUMANE SAID Onzaïrati				
ATTOUMANI OUSSENI Arlette				
BACO Raissa				
CHARAFOU Bahati				
CHARF-EDDINE Iyane				
DAOU Ismaël				
HALIFA El -enrif				
HAMADA Nadjima-sophie				
HOUMADI Zahara				
IBRAHIM Nasser				




601 –

ABDALLAH Laetitia

-  Représenter \_\_\_\_\_  Maîtrise insuffisante
-  Raisonner \_\_\_\_\_  Maîtrise fragile
-  Calculer \_\_\_\_\_  Maîtrise insuffisante
-  Communiquer \_\_\_\_\_  Maîtrise satisfaisante









Exercice 1	
Mesurer un poids	
Remplacer les fractions d'unités	
Comparer 2 poids	




Exercice 2	
Reconnaître les objets géométriques	
Explication des erreurs	



Exercice 3	
Faire les calculs	
Explication	
Choix des opérations	




601 –

ABDALLAH Lina

-  Représenter \_\_\_\_\_  Maîtrise satisfaisante
-  Raisonner \_\_\_\_\_  Maîtrise fragile
-  Calculer \_\_\_\_\_  Maîtrise satisfaisante
-  Communiquer \_\_\_\_\_  Maîtrise satisfaisante









Exercice 1	
Mesurer un poids	
Remplacer les fractions d'unités	
Comparer 2 poids	




Exercice 2	
Reconnaître les objets géométriques	
Explication des erreurs	



Exercice 3	
Faire les calculs	
Explication	
Choix des opérations	




601 –

ABDOU AHMED Zaher

-  Représenter \_\_\_\_\_  Maîtrise satisfaisante
-  Raisonner \_\_\_\_\_  Maîtrise satisfaisante
-  Calculer \_\_\_\_\_  Maîtrise satisfaisante
-  Communiquer \_\_\_\_\_  Maîtrise satisfaisante









Exercice 1	
Mesurer un poids	
Remplacer les fractions d'unités	
Comparer 2 poids	




Exercice 2	
Reconnaître les objets géométriques	
Explication des erreurs	



Exercice 3	
Faire les calculs	
Explication	
Choix des opérations	




601 –

ABDOU Samima

-  Représenter \_\_\_\_\_  Maîtrise insuffisante
-  Raisonner \_\_\_\_\_  Maîtrise fragile
-  Calculer \_\_\_\_\_  Maîtrise insuffisante
-  Communiquer \_\_\_\_\_  Maîtrise fragile









Exercice 1	
Mesurer un poids	
Remplacer les fractions d'unités	
Comparer 2 poids	




Exercice 2	
Reconnaître les objets géométriques	
Explication des erreurs	



Exercice 3	
Faire les calculs	
Explication	
Choix des opérations	




601 –

ABOUTOIH Nasra

-  Représenter \_\_\_\_\_  Maîtrise satisfaisante
-  Raisonner \_\_\_\_\_  Maîtrise satisfaisante
-  Calculer \_\_\_\_\_  Très bonne maîtrise
-  Communiquer \_\_\_\_\_  Très bonne maîtrise









Exercice 1	
Mesurer un poids	
Remplacer les fractions d'unités	
Comparer 2 poids	




Exercice 2	
Reconnaître les objets géométriques	
Explication des erreurs	



Exercice 3	
Faire les calculs	
Explication	
Choix des opérations	




601 –

AHAMADI SAID Aynoudine

-  Représenter \_\_\_\_\_  Maîtrise insuffisante
-  Raisonner \_\_\_\_\_  Maîtrise insuffisante
-  Calculer \_\_\_\_\_  Maîtrise insuffisante
-  Communiquer \_\_\_\_\_  Maîtrise fragile

Exercice 1	
Mesurer un poids	
Remplacer les fractions d'unités	
Comparer 2 poids	

Exercice 2	
Reconnaître les objets géométriques	
Explication des erreurs	

Exercice 3	
Faire les calculs	
Explication	
Choix des opérations	








# DS3




601 –

AHMED Rayna

-  Représenter \_\_\_\_\_  Maîtrise insuffisante
-  Raisonner \_\_\_\_\_  Maîtrise fragile
-  Calculer \_\_\_\_\_  Maîtrise insuffisante
-  Communiquer \_\_\_\_\_  Maîtrise insuffisante









Exercice 1	
Mesurer un poids	
Remplacer les fractions d'unités	
Comparer 2 poids	




Exercice 2	
Reconnaître les objets géométriques	
Explication des erreurs	



Exercice 3	
Faire les calculs	
Explication	
Choix des opérations	




601 –

AKIDACHI Youssouf

-  Représenter \_\_\_\_\_  Maîtrise satisfaisante
-  Raisonner \_\_\_\_\_  Maîtrise fragile
-  Calculer \_\_\_\_\_  Maîtrise satisfaisante
-  Communiquer \_\_\_\_\_  Maîtrise satisfaisante









Exercice 1	
Mesurer un poids	
Remplacer les fractions d'unités	
Comparer 2 poids	




Exercice 2	
Reconnaître les objets géométriques	
Explication des erreurs	



Exercice 3	
Faire les calculs	
Explication	
Choix des opérations	




601 –

ALAWI Naim

-  Représenter \_\_\_\_\_  Maîtrise satisfaisante
-  Raisonner \_\_\_\_\_  Maîtrise fragile
-  Calculer \_\_\_\_\_  Maîtrise fragile
-  Communiquer \_\_\_\_\_  Maîtrise fragile









Exercice 1	
Mesurer un poids	
Remplacer les fractions d'unités	
Comparer 2 poids	




Exercice 2	
Reconnaître les objets géométriques	
Explication des erreurs	



Exercice 3	
Faire les calculs	
Explication	
Choix des opérations	




601 –

ALI Estein

-  Représenter \_\_\_\_\_  Maîtrise satisfaisante
-  Raisonner \_\_\_\_\_  Maîtrise fragile
-  Calculer \_\_\_\_\_  Très bonne maîtrise
-  Communiquer \_\_\_\_\_  Maîtrise satisfaisante









Exercice 1	
Mesurer un poids	
Remplacer les fractions d'unités	
Comparer 2 poids	




Exercice 2	
Reconnaître les objets géométriques	
Explication des erreurs	



Exercice 3	
Faire les calculs	
Explication	
Choix des opérations	




601 –

ALLAOUI Nissouoiti

-  Représenter \_\_\_\_\_  Maîtrise fragile
-  Raisonner \_\_\_\_\_  Maîtrise insuffisante
-  Calculer \_\_\_\_\_  Maîtrise fragile
-  Communiquer \_\_\_\_\_  Maîtrise fragile









Exercice 1	
Mesurer un poids	
Remplacer les fractions d'unités	
Comparer 2 poids	




Exercice 2	
Reconnaître les objets géométriques	
Explication des erreurs	



Exercice 3	
Faire les calculs	
Explication	
Choix des opérations	




601 –

ANDHUME OUSSENI Any

-  Représenter \_\_\_\_\_  Maîtrise satisfaisante
-  Raisonner \_\_\_\_\_  Maîtrise fragile
-  Calculer \_\_\_\_\_  Maîtrise satisfaisante
-  Communiquer \_\_\_\_\_  Maîtrise satisfaisante









Exercice 1	
Mesurer un poids	
Remplacer les fractions d'unités	
Comparer 2 poids	




Exercice 2	
Reconnaître les objets géométriques	
Explication des erreurs	



Exercice 3	
Faire les calculs	
Explication	
Choix des opérations	




601 –

ANDRE DICK Arson

-  Représenter \_\_\_\_\_  Maîtrise satisfaisante
-  Raisonner \_\_\_\_\_  Maîtrise fragile
-  Calculer \_\_\_\_\_  Maîtrise satisfaisante
-  Communiquer \_\_\_\_\_  Maîtrise satisfaisante









Exercice 1	
Mesurer un poids	
Remplacer les fractions d'unités	
Comparer 2 poids	




Exercice 2	
Reconnaître les objets géométriques	
Explication des erreurs	



Exercice 3	
Faire les calculs	
Explication	
Choix des opérations	




601 –

ANLI Aboubacar

-  Représenter \_\_\_\_\_  Maîtrise insuffisante
-  Raisonner \_\_\_\_\_  Maîtrise fragile
-  Calculer \_\_\_\_\_  Maîtrise insuffisante
-  Communiquer \_\_\_\_\_  Maîtrise fragile

Exercice 1	
Mesurer un poids	
Remplacer les fractions d'unités	
Comparer 2 poids	









Exercice 2	
Reconnaître les objets géométriques	
Explication des erreurs	




Exercice 3	
Faire les calculs	
Explication	
Choix des opérations	








601 –

ATTOUMANE SAID Onzairati

-  Représenter \_\_\_\_\_  Maîtrise insuffisante
-  Raisonner \_\_\_\_\_  Maîtrise fragile
-  Calculer \_\_\_\_\_  Maîtrise satisfaisante
-  Communiquer \_\_\_\_\_  Maîtrise satisfaisante





Exercice 1	
Mesurer un poids	
Remplacer les fractions d'unités	
Comparer 2 poids	




Exercice 2	
Reconnaître les objets géométriques	
Explication des erreurs	



Exercice 3	
Faire les calculs	
Explication	
Choix des opérations	




601 –

ATTOUMANI OUSSENI Arlette

-  Représenter \_\_\_\_\_  Maîtrise fragile
-  Raisonner \_\_\_\_\_  Maîtrise fragile
-  Calculer \_\_\_\_\_  Maîtrise fragile
-  Communiquer \_\_\_\_\_  Maîtrise fragile

Exercice 1	
Mesurer un poids	
Remplacer les fractions d'unités	
Comparer 2 poids	









Exercice 2	
Reconnaître les objets géométriques	
Explication des erreurs	




Exercice 3	
Faire les calculs	
Explication	
Choix des opérations	



# DS3




601 –

BACO Raissa

-  Représenter \_\_\_\_\_  Maîtrise insuffisante
-  Raisonner \_\_\_\_\_  Maîtrise fragile
-  Calculer \_\_\_\_\_  Maîtrise fragile
-  Communiquer \_\_\_\_\_  Maîtrise satisfaisante









Exercice 1	
Mesurer un poids	
Remplacer les fractions d'unités	
Comparer 2 poids	




Exercice 2	
Reconnaître les objets géométriques	
Explication des erreurs	



Exercice 3	
Faire les calculs	
Explication	
Choix des opérations	




601 –

CHARAFOU Bahati

-  Représenter \_\_\_\_\_  Maîtrise satisfaisante
-  Raisonner \_\_\_\_\_  Maîtrise fragile
-  Calculer \_\_\_\_\_  Maîtrise satisfaisante
-  Communiquer \_\_\_\_\_  Maîtrise satisfaisante









Exercice 1	
Mesurer un poids	
Remplacer les fractions d'unités	
Comparer 2 poids	




Exercice 2	
Reconnaître les objets géométriques	
Explication des erreurs	



Exercice 3	
Faire les calculs	
Explication	
Choix des opérations	




601 –

CHARF-EDDINE Iyane

-  Représenter \_\_\_\_\_  Maîtrise fragile
-  Raisonner \_\_\_\_\_  Maîtrise fragile
-  Calculer \_\_\_\_\_  Maîtrise satisfaisante
-  Communiquer \_\_\_\_\_  Maîtrise satisfaisante

Exercice 1	
Mesurer un poids	
Remplacer les fractions d'unités	
Comparer 2 poids	









Exercice 2	
Reconnaître les objets géométriques	
Explication des erreurs	




Exercice 3	
Faire les calculs	
Explication	
Choix des opérations	



# DS3




601 –

DAOU Ismaël

-  Représenter \_\_\_\_\_  Très bonne maîtrise
-  Raisonner \_\_\_\_\_  Très bonne maîtrise
-  Calculer \_\_\_\_\_  Très bonne maîtrise
-  Communiquer \_\_\_\_\_  Maîtrise satisfaisante









Exercice 1	
Mesurer un poids	
Remplacer les fractions d'unités	
Comparer 2 poids	




Exercice 2	
Reconnaître les objets géométriques	
Explication des erreurs	



Exercice 3	
Faire les calculs	
Explication	
Choix des opérations	

601 –




HALIFA El -enrif

-  Représenter \_\_\_\_\_  Maîtrise satisfaisante
-  Raisonner \_\_\_\_\_  Maîtrise satisfaisante
-  Calculer \_\_\_\_\_  Maîtrise satisfaisante
-  Communiquer \_\_\_\_\_  Maîtrise satisfaisante

Exercice 1	
Mesurer un poids	
Remplacer les fractions d'unités	
Comparer 2 poids	









Exercice 2	
Reconnaître les objets géométriques	
Explication des erreurs	




  



Exercice 3	
Faire les calculs	
Explication	
Choix des opérations	




601 –

HAMADA Nadjima-sophie

-  Représenter \_\_\_\_\_  Maîtrise fragile
-  Raisonner \_\_\_\_\_  Maîtrise insuffisante
-  Calculer \_\_\_\_\_  Maîtrise satisfaisante
-  Communiquer \_\_\_\_\_  Maîtrise satisfaisante

Exercice 1	
Mesurer un poids	
Remplacer les fractions d'unités	
Comparer 2 poids	

Exercice 2	
Reconnaître les objets géométriques	
Explication des erreurs	









Exercice 3	
Faire les calculs	
Explication	
Choix des opérations	








# DS3




601 –

HOU MADI Zahara

-  Représenter \_\_\_\_\_  Maîtrise insuffisante
-  Raisonner \_\_\_\_\_  Maîtrise fragile
-  Calculer \_\_\_\_\_  Maîtrise fragile
-  Communiquer \_\_\_\_\_  Maîtrise fragile









Exercice 1	
Mesurer un poids	
Remplacer les fractions d'unités	
Comparer 2 poids	




Exercice 2	
Reconnaître les objets géométriques	
Explication des erreurs	



Exercice 3	
Faire les calculs	
Explication	
Choix des opérations	



601 –

IBRAHIM Nasser

-  Représenter \_\_\_\_\_  Maîtrise fragile
-  Raisonner \_\_\_\_\_  Maîtrise insuffisante
-  Calculer \_\_\_\_\_  Maîtrise satisfaisante
-  Communiquer \_\_\_\_\_  Maîtrise satisfaisante

Exercice 1	
Mesurer un poids	
Remplacer les fractions d'unités	
Comparer 2 poids	

Exercice 2	
Reconnaître les objets géométriques	
Explication des erreurs	

Exercice 3	
Faire les calculs	
Explication	
Choix des opérations	