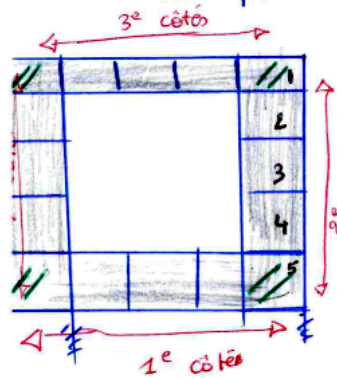


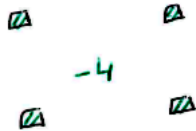
Exercice des carrés de Pierre .

Pour trouver rapidement le nombre de mosaïque on fait :



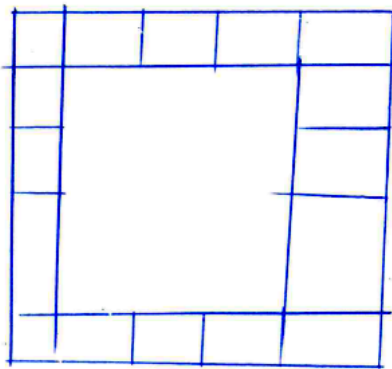
$$5 \times 4 - 4 = 16$$

- Nombre de petit carré du mosaïque .
- Nombre de côtés .
- Les angles qui se répètent .



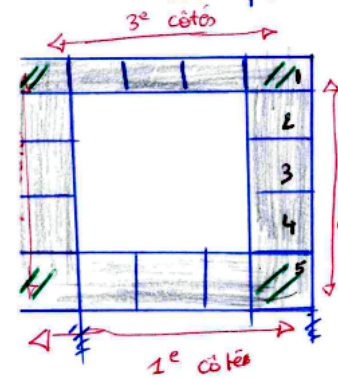
1ère possibilité ↗  
2ème possibilité ↘

$$3 \times 4 + 4 = 16$$



Exercice des carrés de Pierre .

Pour trouver rapidement le nombre de mosaïque on fait :



$$5 \times 4 - 4 = 16$$

- Nombre de petit carré du mosaïque .
- Nombre de côtés .
- Les angles qui se répètent .



1ère possibilité ↗  
2ème possibilité ↘

$$3 \times 4 + 4 = 16$$

