

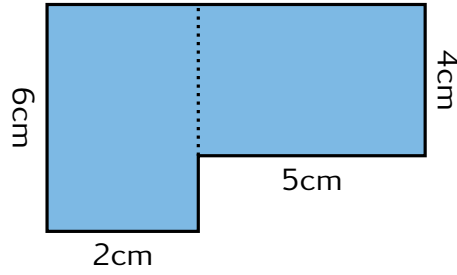
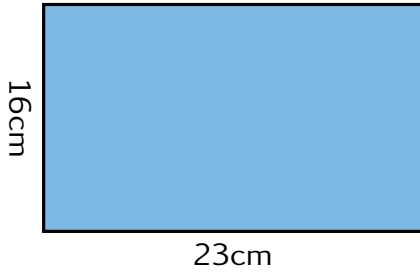
Exercice 3

Aire et périmètre

1. Quel est le nom de l'unité qui mesure l'aire? La dessiner sur la figure.

.....

2. On s'intéresse aux deux figures suivantes



(a) Calculer le périmètre et l'aire de la figure 1.

Périmètre :

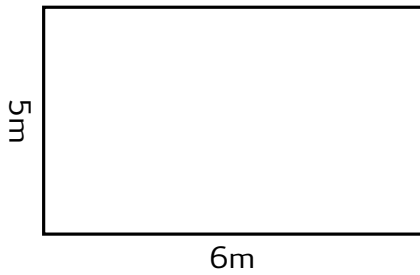
Aire :

(b) Calculer le périmètre et l'aire de la figure 2.

Périmètre :

Aire :

3. Abdou a 20m de grillage pour clôturer son champs. Est-ce suffisant?



.....

Exercice 4

Course à vélo

Lors d'une course à vélo, on a enregistré les distances parcourues par un cycliste chaque heure après le départ. Ces informations ont été mise dans ce graphique.

1. Quelle distance a été parcouru au bout de une heure?

.....

2. Combien de temps a-t-il mis pour faire les 170 premiers km?

.....

3. Combien de temps a duré la course au total?

.....

