













































601 –

Compétences évaluées

-  Représenter
-  Raisonner
-  Communiquer
-  Calculer









competence fullname	level			
	Rep	Rai	Cal	Com
ABDALLAH Laetitia				
ABDALLAH Lina				
ABDILLAH Naib				
ABDOU AHMED Zaher				
ABDOU Samima				
ABOUTOIH Nasra				
AHAMADI SAID Aynoudine				
AHMED Rayna				
AKIDACHI Youssouf				
ALAWI Naim				




Continued on next page



competence fullname	level			
	Rep	Rai	Cal	Com
ALI Estein				
ALLAOUI Nissouoiti				
ANDHUME OUSSENI Any				
ANDRE DICK Arson				
ANLI Aboubacar				
ATTOUMANE SAID Onzaïrati				
ATTOUMANI OUSSENI Arlette				
BACO Raissa				
CHARAFOU Bahati				
CHARF-EDDINE Iyane				
DAOU Ismaël				
HALIFA El -enrif				
HAMADA Nadjima-sophie				
HOUMADI Zahara				
IBRAHIM Nasser				




601 –

ABDALLAH Laetitia

-  Représenter _____  Maîtrise insuffisante
-  Raisonner _____  Maîtrise fragile
-  Calculer _____  Maîtrise insuffisante
-  Communiquer _____  Maîtrise satisfaisante









Exercice 1	
Mesurer un poids	
Remplacer les fractions d'unités	
Comparer 2 poids	




Exercice 2	
Reconnaître les objets géométriques	
Explication des erreurs	



Exercice 3	
Faire les calculs	
Explication	
Choix des opérations	




601 –

ABDALLAH Lina

-  Représenter _____  Maîtrise satisfaisante
-  Raisonner _____  Maîtrise fragile
-  Calculer _____  Maîtrise satisfaisante
-  Communiquer _____  Maîtrise satisfaisante









Exercice 1	
Mesurer un poids	
Remplacer les fractions d'unités	
Comparer 2 poids	




Exercice 2	
Reconnaître les objets géométriques	
Explication des erreurs	



Exercice 3	
Faire les calculs	
Explication	
Choix des opérations	




601 –

ABDILLAH Naib

-  Représenter _____  Maîtrise insuffisante
-  Raisonner _____  Maîtrise satisfaisante
-  Calculer _____  Maîtrise satisfaisante
-  Communiquer _____  Maîtrise fragile









Exercice 1	
Mesurer un poids	
Remplacer les fractions d'unités	
Comparer 2 poids	




Exercice 2	
Reconnaître les objets géométriques	
Explication des erreurs	



Exercice 3	
Faire les calculs	
Explication	
Choix des opérations	




601 –

ABDOU AHMED Zaher

-  Représenter _____  Maîtrise satisfaisante
-  Raisonner _____  Maîtrise satisfaisante
-  Calculer _____  Maîtrise satisfaisante
-  Communiquer _____  Maîtrise satisfaisante









Exercice 1	
Mesurer un poids	
Remplacer les fractions d'unités	
Comparer 2 poids	




Exercice 2	
Reconnaître les objets géométriques	
Explication des erreurs	



Exercice 3	
Faire les calculs	
Explication	
Choix des opérations	




601 –

ABDOU Samima

-  Représenter _____  Maîtrise insuffisante
-  Raisonner _____  Maîtrise fragile
-  Calculer _____  Maîtrise insuffisante
-  Communiquer _____  Maîtrise fragile









Exercice 1	
Mesurer un poids	
Remplacer les fractions d'unités	
Comparer 2 poids	




Exercice 2	
Reconnaître les objets géométriques	
Explication des erreurs	



Exercice 3	
Faire les calculs	
Explication	
Choix des opérations	




601 –

ABOUTOIH Nasra

-  Représenter _____  Maîtrise satisfaisante
-  Raisonner _____  Maîtrise satisfaisante
-  Calculer _____  Très bonne maîtrise
-  Communiquer _____  Très bonne maîtrise









Exercice 1	
Mesurer un poids	
Remplacer les fractions d'unités	
Comparer 2 poids	




Exercice 2	
Reconnaître les objets géométriques	
Explication des erreurs	



Exercice 3	
Faire les calculs	
Explication	
Choix des opérations	




601 –

AHAMADI SAID Aynoudine

-  Représenter _____  Maîtrise insuffisante
-  Raisonner _____  Maîtrise insuffisante
-  Calculer _____  Maîtrise insuffisante
-  Communiquer _____  Maîtrise fragile

Exercice 1	
Mesurer un poids	
Remplacer les fractions d'unités	
Comparer 2 poids	

Exercice 2	
Reconnaître les objets géométriques	
Explication des erreurs	




Exercice 3	
Faire les calculs	
Explication	
Choix des opérations	



DS3




601 –

AHMED Rayna

-  Représenter _____  Maîtrise insuffisante
-  Raisonner _____  Maîtrise fragile
-  Calculer _____  Maîtrise insuffisante
-  Communiquer _____  Maîtrise insuffisante









Exercice 1	
Mesurer un poids	
Remplacer les fractions d'unités	
Comparer 2 poids	




Exercice 2	
Reconnaître les objets géométriques	
Explication des erreurs	



Exercice 3	
Faire les calculs	
Explication	
Choix des opérations	




601 –

AKIDACHI Youssouf

-  Représenter _____  Maîtrise satisfaisante
-  Raisonner _____  Maîtrise fragile
-  Calculer _____  Maîtrise satisfaisante
-  Communiquer _____  Maîtrise satisfaisante









Exercice 1	
Mesurer un poids	
Remplacer les fractions d'unités	
Comparer 2 poids	




Exercice 2	
Reconnaître les objets géométriques	
Explication des erreurs	



Exercice 3	
Faire les calculs	
Explication	
Choix des opérations	




601 –

ALAWI Naim

-  Représenter _____  Maîtrise satisfaisante
-  Raisonner _____  Maîtrise fragile
-  Calculer _____  Maîtrise fragile
-  Communiquer _____  Maîtrise fragile









Exercice 1	
Mesurer un poids	
Remplacer les fractions d'unités	
Comparer 2 poids	




Exercice 2	
Reconnaître les objets géométriques	
Explication des erreurs	



Exercice 3	
Faire les calculs	
Explication	
Choix des opérations	




601 –

ALI Estein

-  Représenter _____  Maîtrise satisfaisante
-  Raisonner _____  Maîtrise fragile
-  Calculer _____  Très bonne maîtrise
-  Communiquer _____  Maîtrise satisfaisante









Exercice 1	
Mesurer un poids	
Remplacer les fractions d'unités	
Comparer 2 poids	




Exercice 2	
Reconnaître les objets géométriques	
Explication des erreurs	



Exercice 3	
Faire les calculs	
Explication	
Choix des opérations	




601 –

ALLAOUI Nissouoiti

-  Représenter _____  Maîtrise fragile
-  Raisonner _____  Maîtrise insuffisante
-  Calculer _____  Maîtrise fragile
-  Communiquer _____  Maîtrise fragile









Exercice 1	
Mesurer un poids	
Remplacer les fractions d'unités	
Comparer 2 poids	




Exercice 2	
Reconnaître les objets géométriques	
Explication des erreurs	



Exercice 3	
Faire les calculs	
Explication	
Choix des opérations	




601 –

ANDHUME OUSSENI Any

-  Représenter _____  Maîtrise satisfaisante
-  Raisonner _____  Maîtrise fragile
-  Calculer _____  Maîtrise satisfaisante
-  Communiquer _____  Maîtrise satisfaisante

Exercice 1	
Mesurer un poids	
Remplacer les fractions d'unités	
Comparer 2 poids	









Exercice 2	
Reconnaître les objets géométriques	
Explication des erreurs	




Exercice 3	
Faire les calculs	
Explication	
Choix des opérations	



DS3




601 –

ANDRE DICK Arson

-  Représenter _____  Maîtrise satisfaisante
-  Raisonner _____  Maîtrise fragile
-  Calculer _____  Maîtrise satisfaisante
-  Communiquer _____  Maîtrise satisfaisante









Exercice 1	
Mesurer un poids	
Remplacer les fractions d'unités	
Comparer 2 poids	




Exercice 2	
Reconnaître les objets géométriques	
Explication des erreurs	



Exercice 3	
Faire les calculs	
Explication	
Choix des opérations	




601 –

ANLI Aboubacar

-  Représenter _____  Maîtrise insuffisante
-  Raisonner _____  Maîtrise fragile
-  Calculer _____  Maîtrise insuffisante
-  Communiquer _____  Maîtrise fragile









Exercice 1	
Mesurer un poids	
Remplacer les fractions d'unités	
Comparer 2 poids	




Exercice 2	
Reconnaître les objets géométriques	
Explication des erreurs	



Exercice 3	
Faire les calculs	
Explication	
Choix des opérations	




601 –

ATTOUMANE SAID Onzairati

-  Représenter _____  Maîtrise insuffisante
-  Raisonner _____  Maîtrise fragile
-  Calculer _____  Maîtrise satisfaisante
-  Communiquer _____  Maîtrise satisfaisante




Exercice 1	
Mesurer un poids	
Remplacer les fractions d'unités	
Comparer 2 poids	




Exercice 2	
Reconnaître les objets géométriques	
Explication des erreurs	



Exercice 3	
Faire les calculs	
Explication	
Choix des opérations	




601 –

ATTOUMANI OUSSENI Arlette

-  Représenter _____  Maîtrise fragile
-  Raisonner _____  Maîtrise fragile
-  Calculer _____  Maîtrise fragile
-  Communiquer _____  Maîtrise fragile

Exercice 1	
Mesurer un poids	
Remplacer les fractions d'unités	
Comparer 2 poids	









Exercice 2	
Reconnaître les objets géométriques	
Explication des erreurs	




Exercice 3	
Faire les calculs	
Explication	
Choix des opérations	



DS3




601 –

BACO Raissa

-  Représenter _____  Maîtrise insuffisante
-  Raisonner _____  Maîtrise fragile
-  Calculer _____  Maîtrise fragile
-  Communiquer _____  Maîtrise satisfaisante









Exercice 1	
Mesurer un poids	
Remplacer les fractions d'unités	
Comparer 2 poids	




Exercice 2	
Reconnaître les objets géométriques	
Explication des erreurs	



Exercice 3	
Faire les calculs	
Explication	
Choix des opérations	




601 –

CHARAFOU Bahati

-  Représenter _____  Maîtrise satisfaisante
-  Raisonner _____  Maîtrise fragile
-  Calculer _____  Maîtrise satisfaisante
-  Communiquer _____  Maîtrise satisfaisante









Exercice 1	
Mesurer un poids	
Remplacer les fractions d'unités	
Comparer 2 poids	




Exercice 2	
Reconnaître les objets géométriques	
Explication des erreurs	



Exercice 3	
Faire les calculs	
Explication	
Choix des opérations	




601 –

CHARF-EDDINE Iyane

-  Représenter _____  Maîtrise fragile
-  Raisonner _____  Maîtrise fragile
-  Calculer _____  Maîtrise satisfaisante
-  Communiquer _____  Maîtrise satisfaisante

Exercice 1	
Mesurer un poids	
Remplacer les fractions d'unités	
Comparer 2 poids	









Exercice 2	
Reconnaître les objets géométriques	
Explication des erreurs	




Exercice 3	
Faire les calculs	
Explication	
Choix des opérations	



DS3




601 –

DAOU Ismaël

-  Représenter _____  Très bonne maîtrise
-  Raisonner _____  Très bonne maîtrise
-  Calculer _____  Très bonne maîtrise
-  Communiquer _____  Maîtrise satisfaisante









Exercice 1	
Mesurer un poids	
Remplacer les fractions d'unités	
Comparer 2 poids	




Exercice 2	
Reconnaître les objets géométriques	
Explication des erreurs	



Exercice 3	
Faire les calculs	
Explication	
Choix des opérations	




601 –

HALIFA El -enrif

-  Représenter _____  Maîtrise satisfaisante
-  Raisonner _____  Maîtrise satisfaisante
-  Calculer _____  Maîtrise satisfaisante
-  Communiquer _____  Maîtrise satisfaisante









Exercice 1	
Mesurer un poids	
Remplacer les fractions d'unités	
Comparer 2 poids	




Exercice 2	
Reconnaître les objets géométriques	
Explication des erreurs	



Exercice 3	
Faire les calculs	
Explication	
Choix des opérations	




601 –

HAMADA Nadjima-sophie

-  Représenter _____  Maîtrise fragile
-  Raisonner _____  Maîtrise insuffisante
-  Calculer _____  Maîtrise satisfaisante
-  Communiquer _____  Maîtrise satisfaisante

Exercice 1	
Mesurer un poids	
Remplacer les fractions d'unités	
Comparer 2 poids	







Exercice 2	
Reconnaître les objets géométriques	
Explication des erreurs	




Exercice 3	
Faire les calculs	
Explication	
Choix des opérations	



DS3




601 –

HOUMADI Zahara

-  Représenter _____  Maîtrise insuffisante
-  Raisonner _____  Maîtrise fragile
-  Calculer _____  Maîtrise fragile
-  Communiquer _____  Maîtrise fragile









Exercice 1	
Mesurer un poids	
Remplacer les fractions d'unités	
Comparer 2 poids	




Exercice 2	
Reconnaître les objets géométriques	
Explication des erreurs	



Exercice 3	
Faire les calculs	
Explication	
Choix des opérations	



601 –

IBRAHIM Nasser

-  Représenter _____  Maîtrise fragile
-  Raisonner _____  Maîtrise insuffisante
-  Calculer _____  Maîtrise satisfaisante
-  Communiquer _____  Maîtrise satisfaisante

Exercice 1	
Mesurer un poids	
Remplacer les fractions d'unités	
Comparer 2 poids	

Exercice 2	
Reconnaître les objets géométriques	
Explication des erreurs	

Exercice 3	
Faire les calculs	
Explication	
Choix des opérations	