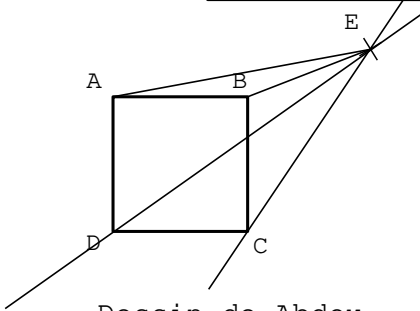
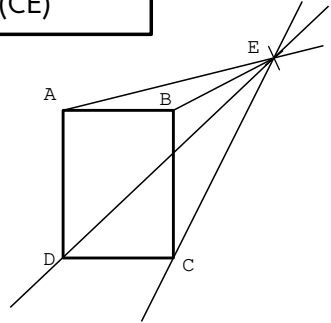


1. Commente les dessins de Abdou et de Mariame. Ont-ils bien suivi le programme de construction?

Programme de construction:
 Tracer un carré ABCD.
 Placer un point E en dehors du carré.
 Tracer les segments [AE] et [BE].
 Tracer les droites (DE) et (CE)



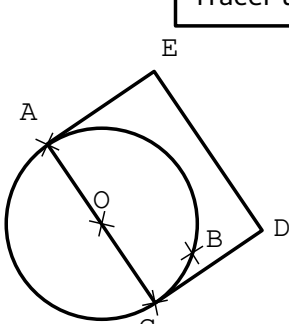
Dessin de Abdou



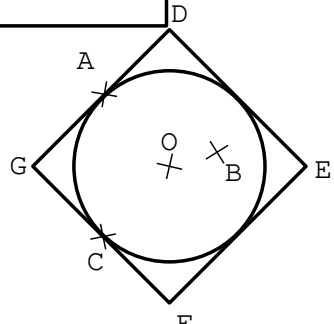
Dessin de Mariame

2. Commente les dessins de Jean et de Attoumane. Ont-ils bien suivi le programme de construction?

Programme de construction:
 Placer un point O.
 Tracer un cercle de centre O.
 Placer 3 points A, B et C sur le cercle.
 Tracer le segment [AC].
 Tracer un carré ACDE.



Dessin de Jean



Dessin de Attoumane

3. Exécute les 2 programmes de construction pour refaire les bonnes figures.