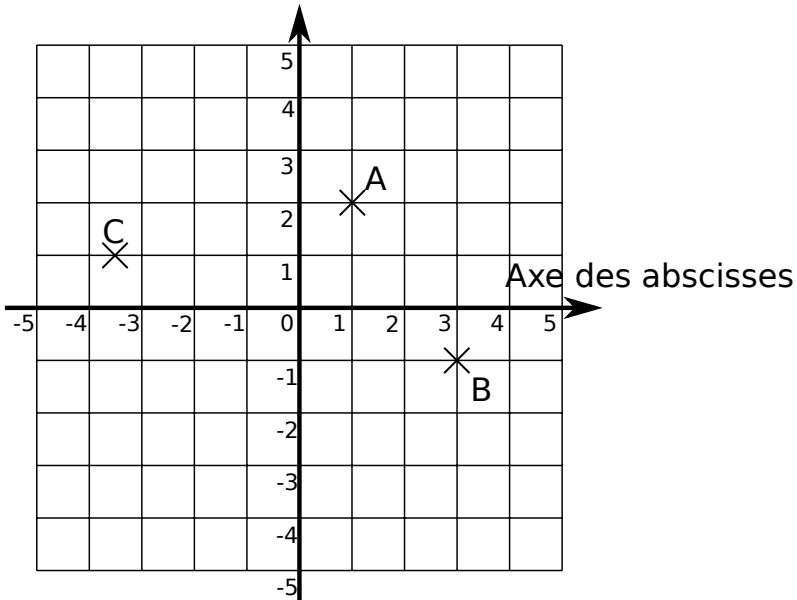


Le repère

Axe des ordonnées



Les **coordonnées** du point A sont

(..... ;)

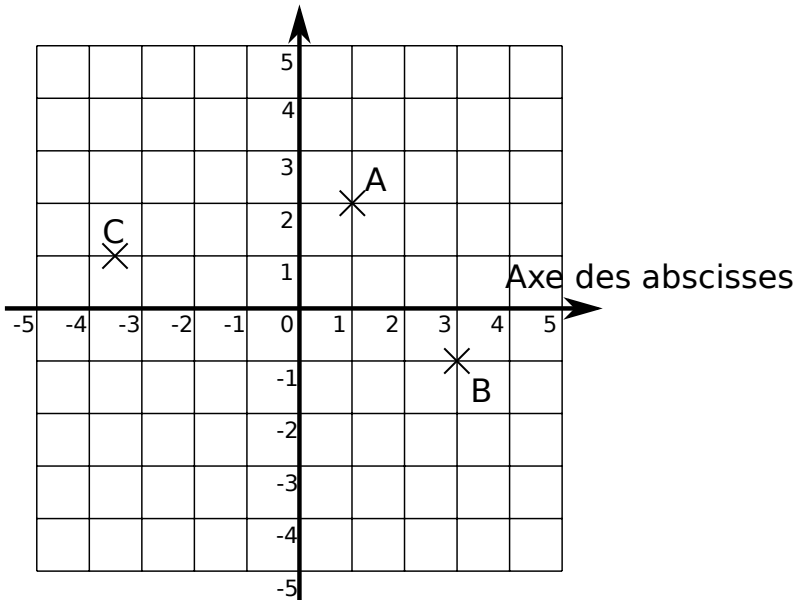
L'**abscisse** (la colonne) du point A est 1.
L'**ordonnée** (la ligne) du point A est 2.

Le point de coordonnée (0;0) est l'**origine du repère**.

Les coordonnées du point B sont (.....;).
Les coordonnées du point C sont (.....;).

Le repère

Axe des ordonnées



Les **coordonnées** du point A sont

(..... ;)

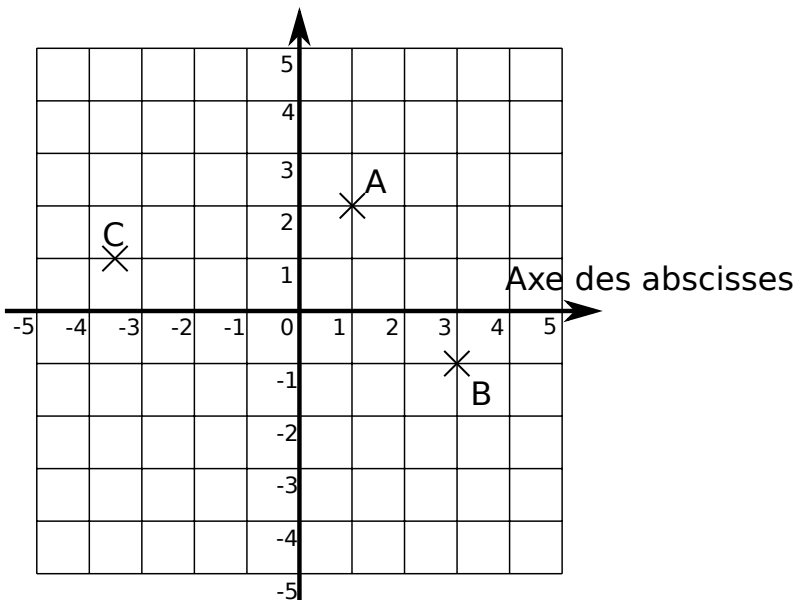
L'**abscisse** (la colonne) du point A est 1.
L'**ordonnée** (la ligne) du point A est 2.

Le point de coordonnée (0;0) est l'**origine du repère**.

Les coordonnées du point B sont (.....;).
Les coordonnées du point C sont (.....;).

Le repère

Axe des ordonnées



Les **coordonnées** du point A sont

(..... ;)

L'**abscisse** (la colonne) du point A est 1.
L'**ordonnée** (la ligne) du point A est 2.

Le point de coordonnée (0;0) est l'**origine du repère**.

Les coordonnées du point B sont (.....;).
Les coordonnées du point C sont (.....;).