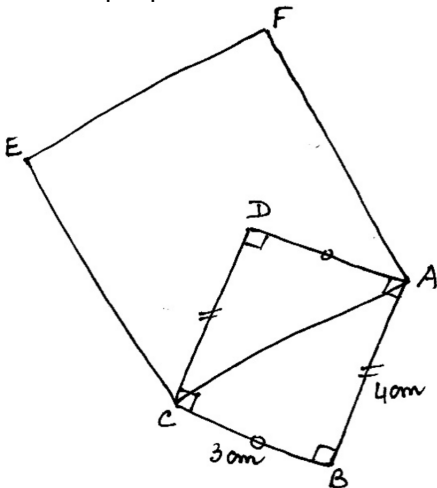


### Exercice 1

### Croquis de Ahmed

Ahmed à fait un dessin de géométrie.  
Pour expliquer à Pierre comment il a fait, Ahmed fait un croquis.

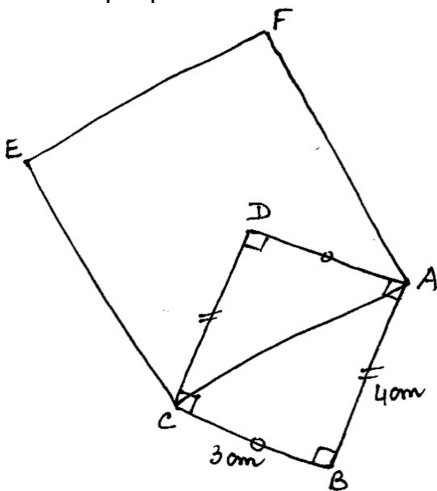


Pierre peut-il reproduire le dessin de Ahmed?

### Exercice 1

### Croquis de Ahmed

Ahmed à fait un dessin de géométrie.  
Pour expliquer à Pierre comment il a fait, Ahmed fait un croquis.

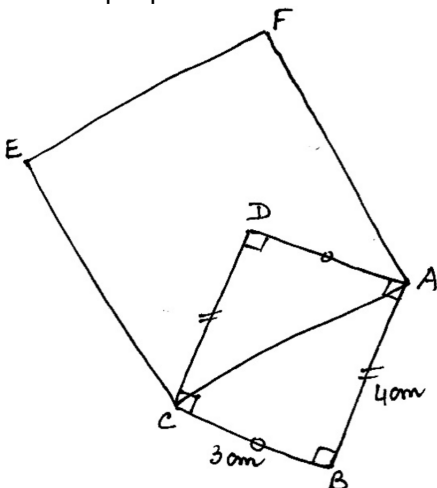


Pierre peut-il reproduire le dessin de Ahmed?

### Exercice 1

### Croquis de Ahmed

Ahmed à fait un dessin de géométrie.  
Pour expliquer à Pierre comment il a fait, Ahmed fait un croquis.



Pierre peut-il reproduire le dessin de Ahmed?