

Questions flashes

Première ST 2

30 secondes par calcul

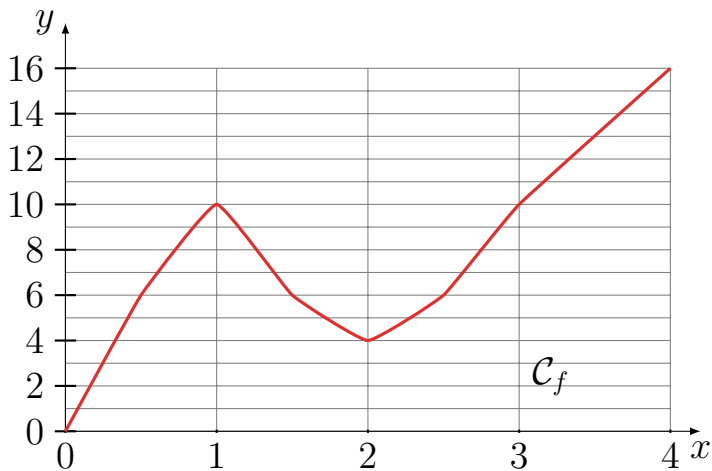
QF_19_11_15-4

Calcul 1

Dans une trousse, 80% des objets sont des petits mots. Parmi les autres objets, 50% sont des stylos.

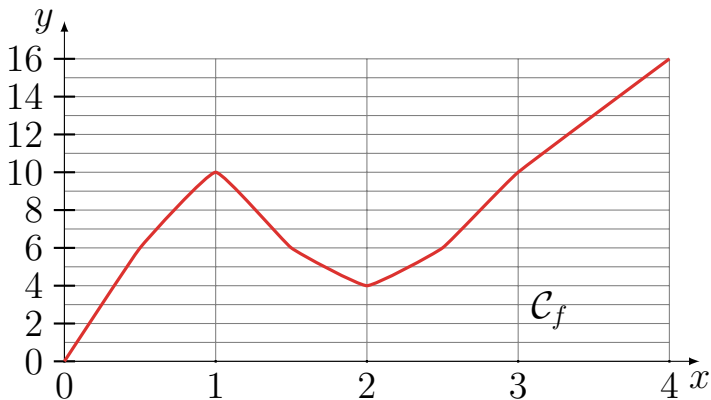
Quelle est la proportion de stylos dans cette trousse ?

Calcul 2



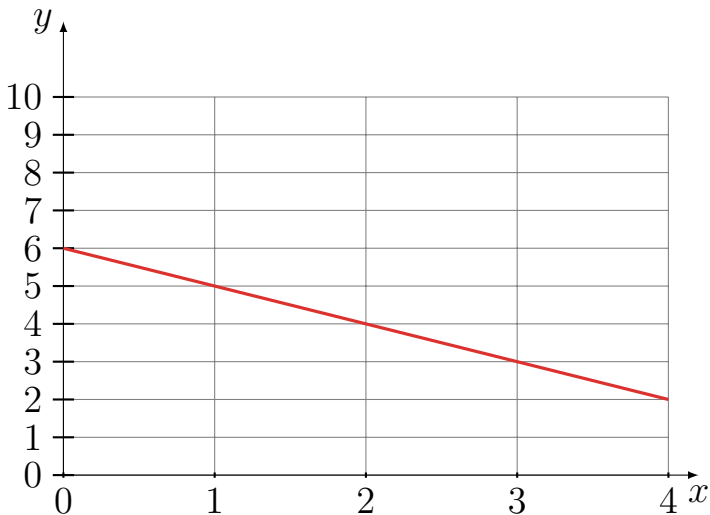
Calculer le taux de variation de f entre 1 et 2.

Calcul 3



Quelles sont les solutions de l'équation
 $f(x) > 10$?

Calcul 4



Calculer l'équation de la droite.

Fin

On retourne son papier.