

Questions flashes

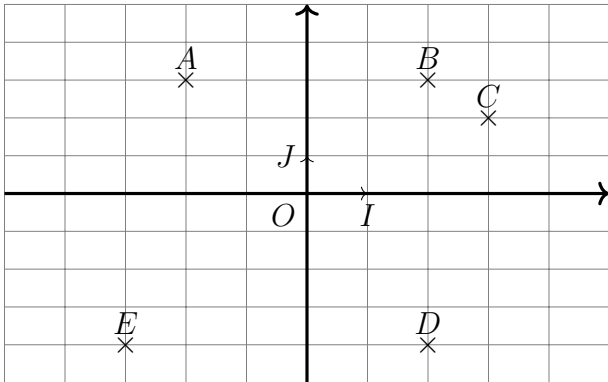
Première ST sti2d

30 secondes par calcul

QF_20_01_17

Calcul 1

Quelle lettre a pour affixe $z = -4i + 2$?



Calcul 2

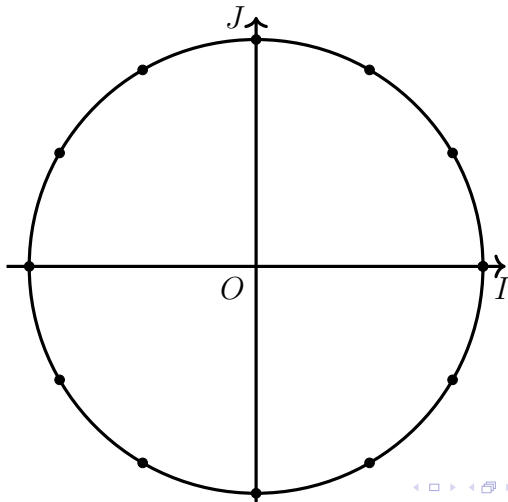
Calculer

$$B = (i - 2)^2$$

Calcul 3

Valeur de

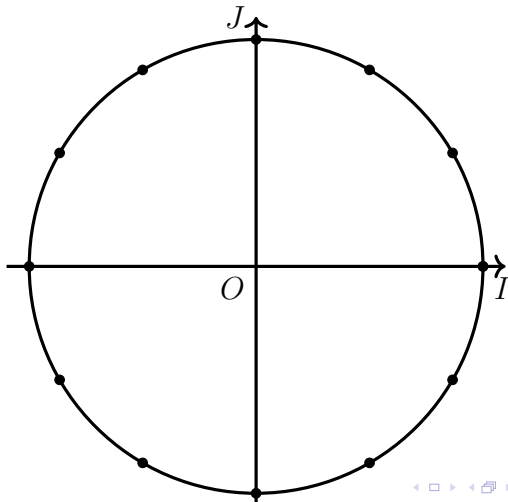
$$\sin\left(\frac{-2\pi}{3}\right)$$



Calcul 4

Solutions de

$$\cos(x) = \frac{1}{2}$$



Calcul 5

Soient

$$A(2; 5)$$

$$B(-4; 3)$$

Calculer les coordonnées du vecteur

$$\overrightarrow{AB} =$$

Fin

On retourne son papier.