

Questions flashes

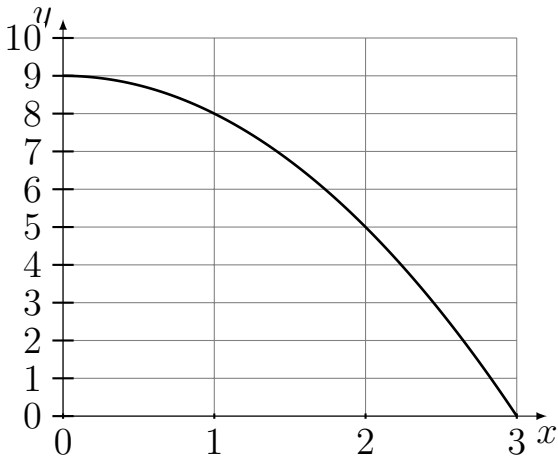
Terminale L-ES

Un peu moins d'une minute par calcul

QF_20_03_09-2

Calcul 1

Donner une encadrement de $\int_0^3 f(x)dx$



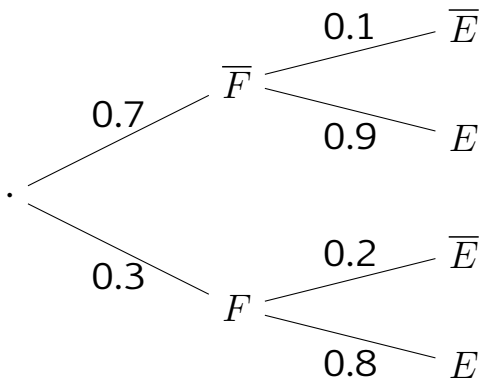
Calcul 2

Quelle est la limite de la suite?

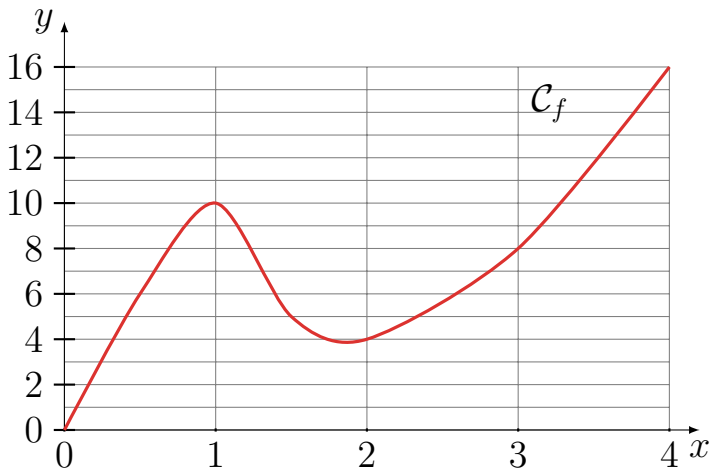
$$u_n = 4 \times 0.5^n + 1$$

Calcul 3

Calculer $P(E)$



Calcul 4



Sur quel intervalle la fonction est convexe ?

Fin

On retourne son papier.