

Questions flash

4e

30 secondes par calcul

QF_S22-3

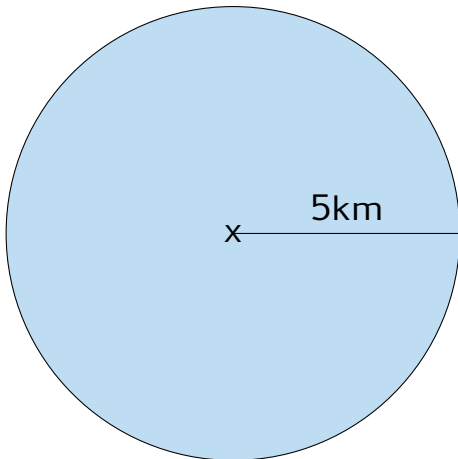
Calcul 1

Convertir en *cL*

12,5L

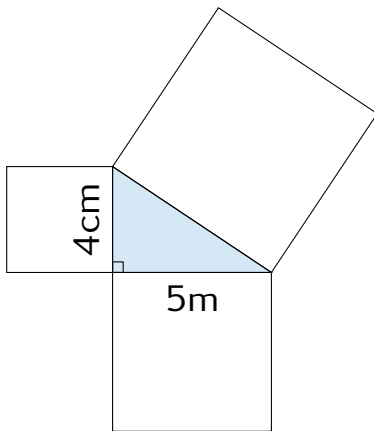
Calcul 2

Calculer le périmètre de la figure bleu



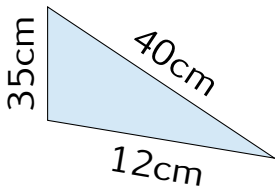
Calcul 3

Calculer la longueur de côté manquant



Calcul 4

Est-ce que le triangle est rectangle?



Fin

On retourne son papier.