

# Questions flash

4e

30 secondes par calcul

QF\_S21-2

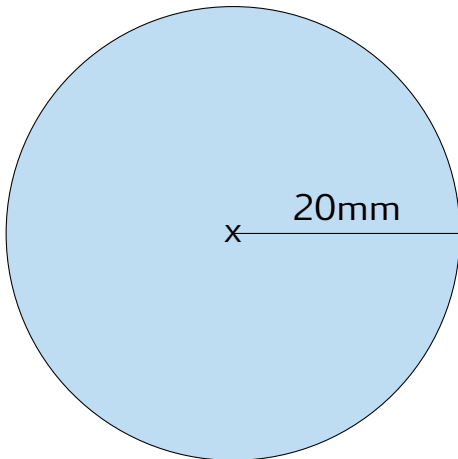
# Calcul 1

Convertir en g

123,5kg

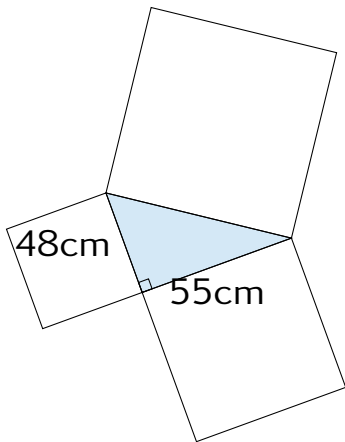
## Calcul 2

Calculer le périmètre de la figure bleu



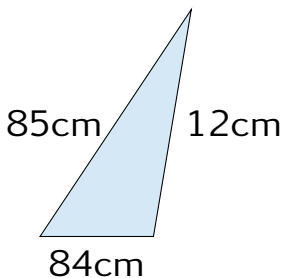
# Calcul 3

Calculer la longueur de coté manquant



## Calcul 4

Est-ce que le triangle est rectangle ?



# Fin

On retourne son papier.