

Questions flashes

Première ST

30 secondes par calcul

QF_S49-2

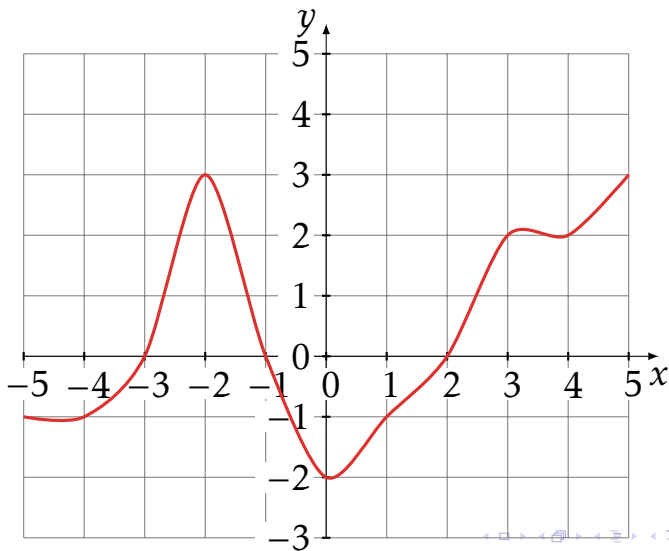
Calcul 1

Une quantité passe de 150 à 60.

Quelle est le taux d'évolution de cette transformation?

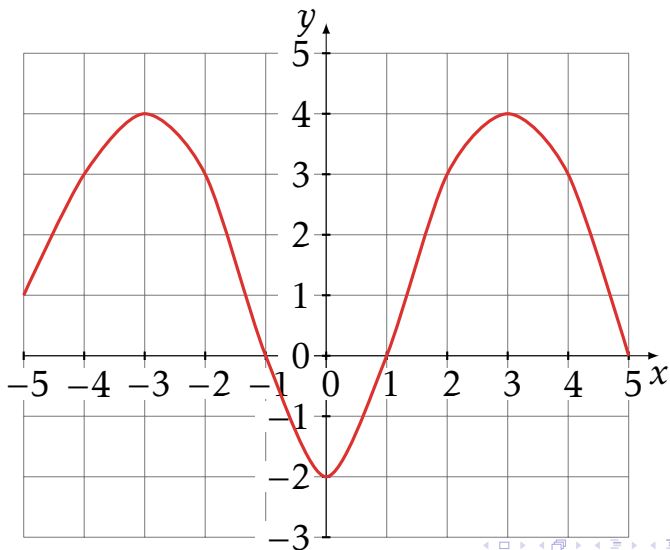
Calcul 2

Déterminer graphiquement $f(x) \leq 0$



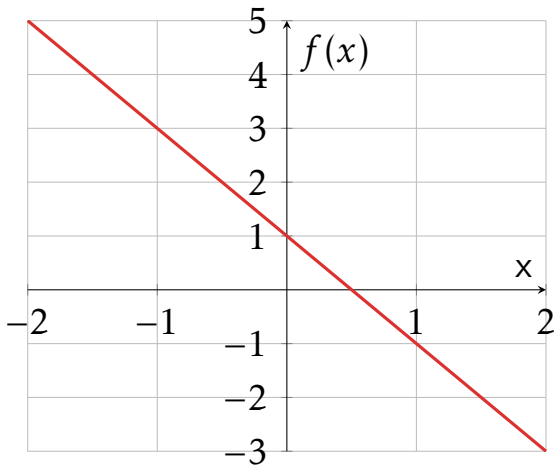
Calcul 3

Calculer le taux de variation entre 0 et 3.



Calcul 4

Déterminer l'équation de la droite.



Fin

On retourne son papier.